

Classification de Fractions (H)

À l'aide des droites numériques, classifiez chaque série de fractions ci-dessous en ordre croissant.

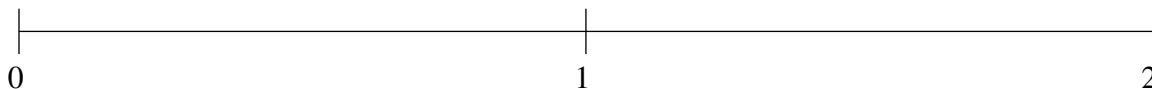
$$\frac{1}{6}, 1\frac{1}{2}, \frac{5}{6}, 1\frac{1}{5}, \frac{7}{15}$$



$$\frac{2}{3}, 1\frac{1}{2}, \frac{1}{10}, 1\frac{5}{6}, 1\frac{1}{6}$$



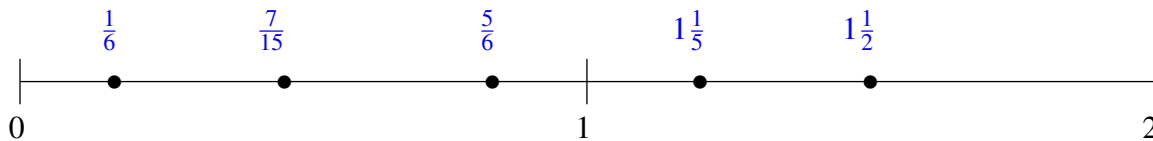
$$1\frac{4}{5}, 1\frac{3}{20}, \frac{1}{3}, \frac{11}{15}, 1\frac{1}{2}$$



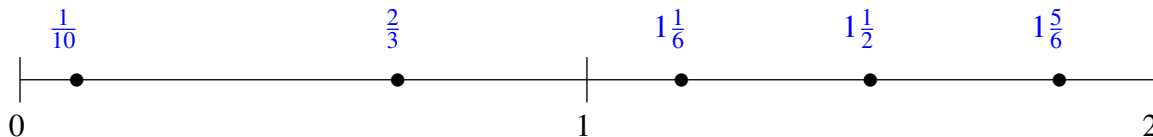
Classification de Fractions (H) Solutions

À l'aide des droites numériques, classifiez chaque série de fractions ci-dessous en ordre croissant.

$$\frac{1}{6}, 1\frac{1}{2}, \frac{5}{6}, 1\frac{1}{5}, \frac{7}{15}$$



$$\frac{2}{3}, 1\frac{1}{2}, \frac{1}{10}, 1\frac{5}{6}, 1\frac{1}{6}$$



$$1\frac{4}{5}, 1\frac{3}{20}, \frac{1}{3}, \frac{11}{15}, 1\frac{1}{2}$$

