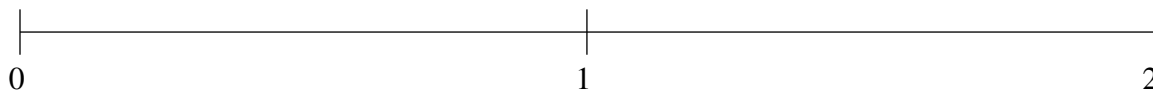


Classification de Fractions (D)

À l'aide des droites numériques, classifiez chaque série de fractions ci-dessous en ordre croissant.

$$1\frac{1}{4}, 1\frac{11}{20}, \frac{19}{21}, \frac{3}{5}, \frac{1}{8}$$



$$\frac{1}{2}, \frac{1}{19}, \frac{49}{50}, 1\frac{7}{8}, 1\frac{2}{5}$$



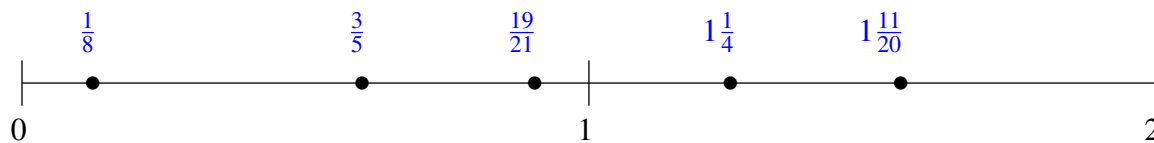
$$\frac{3}{4}, 1\frac{12}{13}, 1\frac{2}{11}, 1\frac{4}{7}, \frac{16}{45}$$



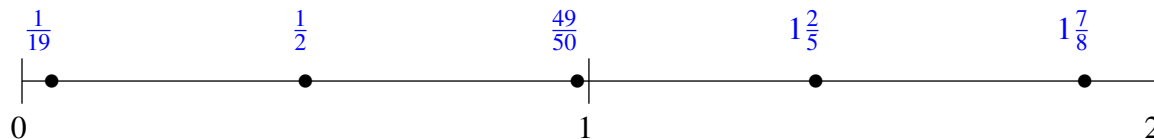
Classification de Fractions (D) Solutions

À l'aide des droites numériques, classifiez chaque série de fractions ci-dessous en ordre croissant.

$$1\frac{1}{4}, 1\frac{11}{20}, \frac{19}{21}, \frac{3}{5}, \frac{1}{8}$$



$$\frac{1}{2}, \frac{1}{19}, \frac{49}{50}, 1\frac{7}{8}, 1\frac{2}{5}$$



$$\frac{3}{4}, 1\frac{12}{13}, 1\frac{2}{11}, 1\frac{4}{7}, \frac{16}{45}$$

