



Fraction d'un Groupe (B)



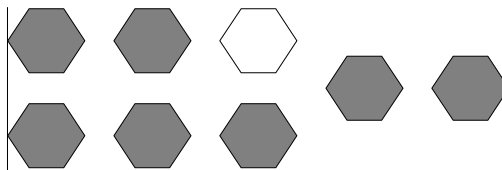
Dans ce groupe,
il y a six carrés.
Deux carrés sont
coloriés.

$\frac{2}{6}$ carrés coloriés
 $\frac{2}{6}$ carrés en groupe

Pour chaque groupe, dites combien de formes/figures sont coloriées.



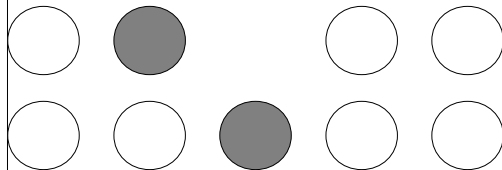
—




—



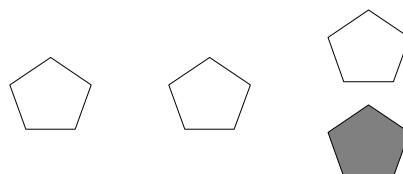
—




—



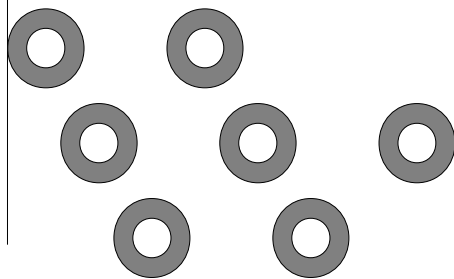
—



—



—



—

David coloria deux des carrés dans un groupe de cinq carrés. Quelle est la fraction qu'il devait écrire? —