



## Fraction d'un Groupe (B)



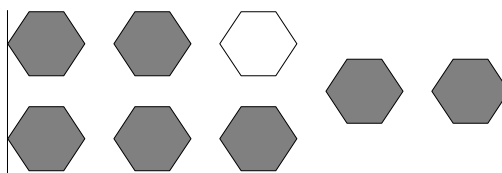
Dans ce groupe,  
il y a six carrés.  
Deux carrés sont  
coloriés.

$\frac{2}{6}$  carrés coloriés  
 $\frac{2}{6}$  carrés en groupe

Pour chaque groupe, dites combien de formes/figures sont coloriées.



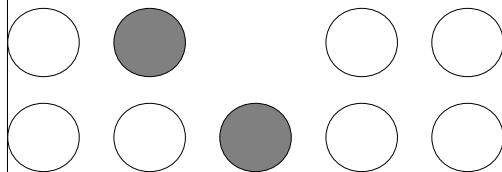
—




—



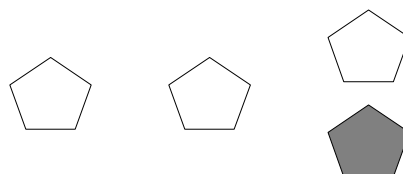
—



—



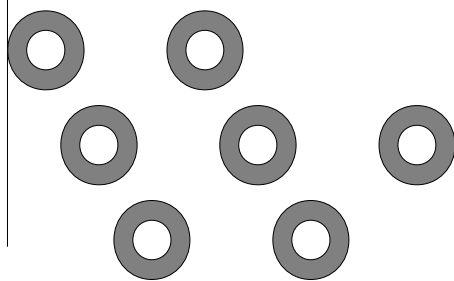
—



—



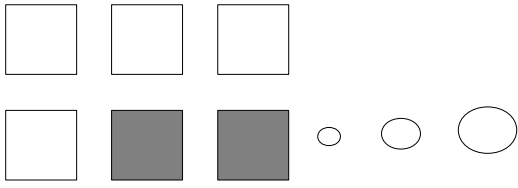
—



—

David coloria deux des carrés dans un groupe de cinq carrés. Quelle est la fraction qu'il devait écrire? —


## Fraction d'un Groupe (B) Réponses



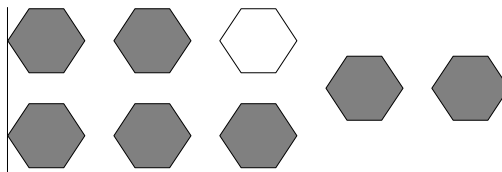
Dans ce groupe,  
il y a six carrés.  
Deux carrés sont  
coloriés.

$\frac{2}{6}$  carrés coloriés  
 $\frac{2}{6}$  carrés en groupe

Pour chaque groupe, dites combien de formes/figures sont coloriées.



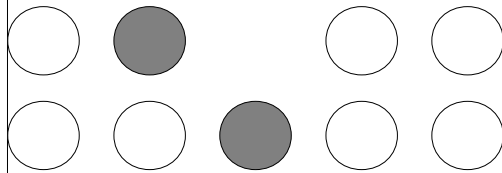
$\frac{1}{7}$




$\frac{7}{8}$



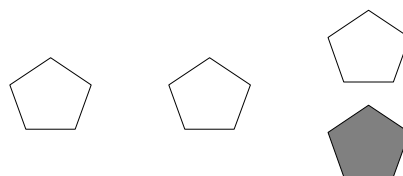
$\frac{1}{2}$




$\frac{2}{9}$



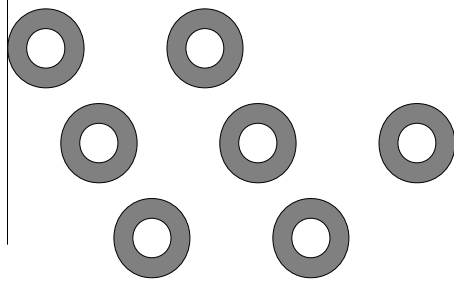
$\frac{2}{5}$



$\frac{1}{4}$



$\frac{5}{7}$



$\frac{7}{7}$

David coloria deux des carrés dans un groupe de cinq carrés. Quelle est la fraction qu'il devait écrire?

$\frac{2}{5}$