

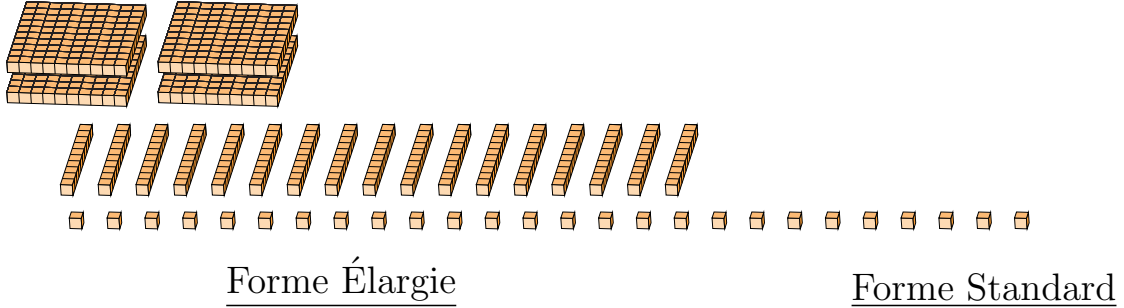
Regroupement en Blocs de Base Dix (J)

Nom: _____

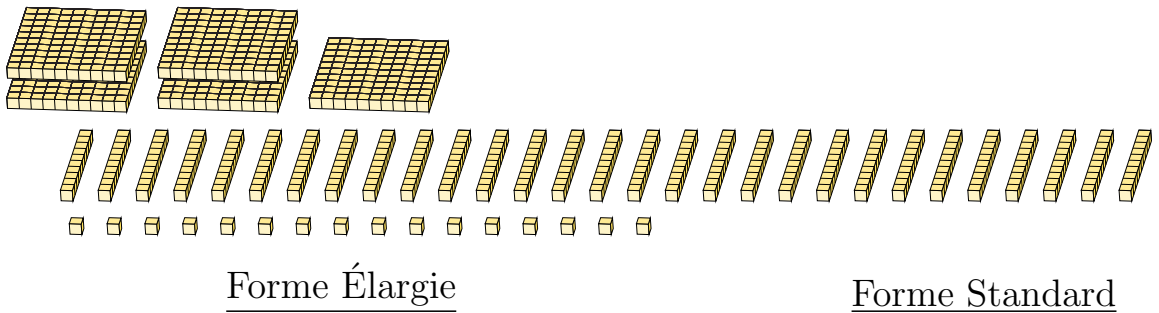
Date: _____

Quel est le nombre indiqué dans chaque bloc de base dix?

1.



2.



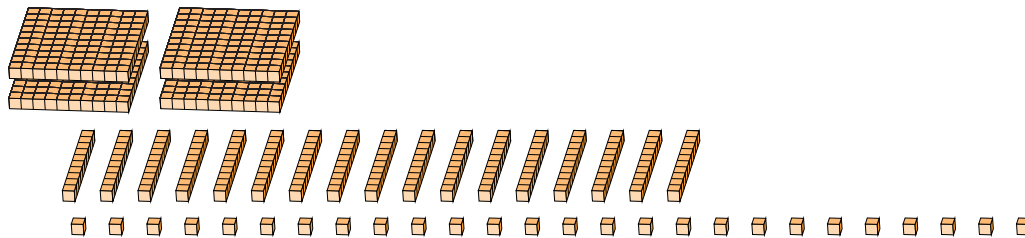
Regroupement en Blocs de Base Dix (J) Réponses

Nom: _____

Date: _____

Quel est le nombre indiqué dans chaque bloc de base dix?

1.



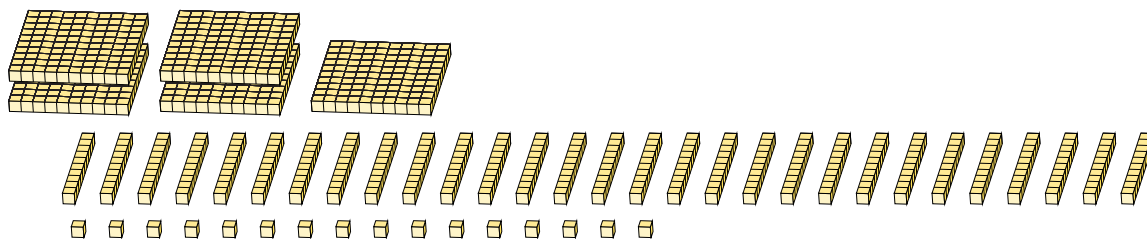
Forme Élargie

$$\begin{aligned} &(4 \times 100) + (17 \times 10) + (26 \times 1) \\ &(5 \times 100) + (9 \times 10) + (6 \times 1) \\ &500 + 90 + 6 \end{aligned}$$

Forme Standard

596

2.



Forme Élargie

$$\begin{aligned} &(5 \times 100) + (29 \times 10) + (16 \times 1) \\ &(8 \times 100) + (0 \times 10) + (6 \times 1) \\ &800 + 0 + 6 \end{aligned}$$

Forme Standard

806