

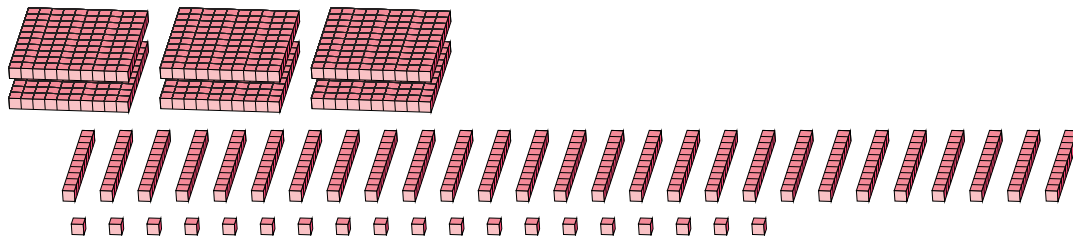
Regroupement en Blocs de Base Dix (H)

Nom: _____

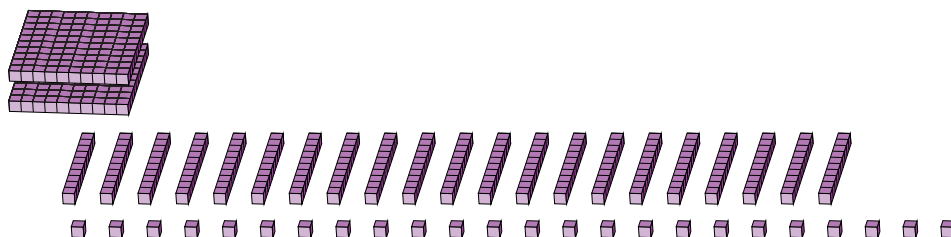
Date: _____

Quel est le nombre indiqué dans chaque bloc de base dix?

1.



2.



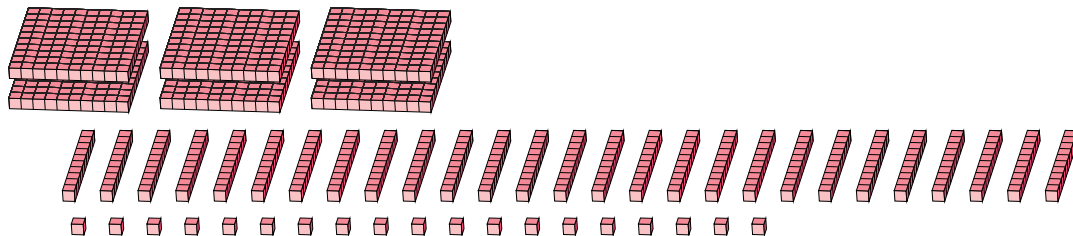
Regroupement en Blocs de Base Dix (H) Réponses

Nom: _____

Date: _____

Quel est le nombre indiqué dans chaque bloc de base dix?

1.



2.

