

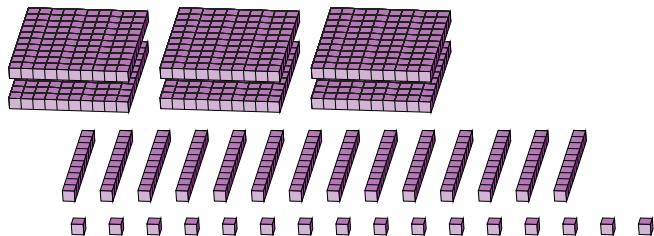
# Regroupement en Blocs de Base Dix (D)

Nom: \_\_\_\_\_

Date: \_\_\_\_\_

Quel est le nombre indiqué dans chaque bloc de base dix?

1.



centaines




dizaines



unités



2.




centaines



dizaines



unités



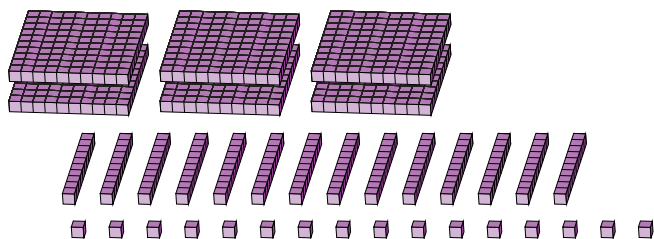
# Regroupement en Blocs de Base Dix (D) Réponses

Nom: \_\_\_\_\_

Date: \_\_\_\_\_

Quel est le nombre indiqué dans chaque bloc de base dix?

1.




6	14	16
centaines	dizaines	unités

→  
regrouper

7	5	6
---	---	---

2.



1	18	23
centaines	dizaines	unités

→  
regrouper

3	0	3
---	---	---