

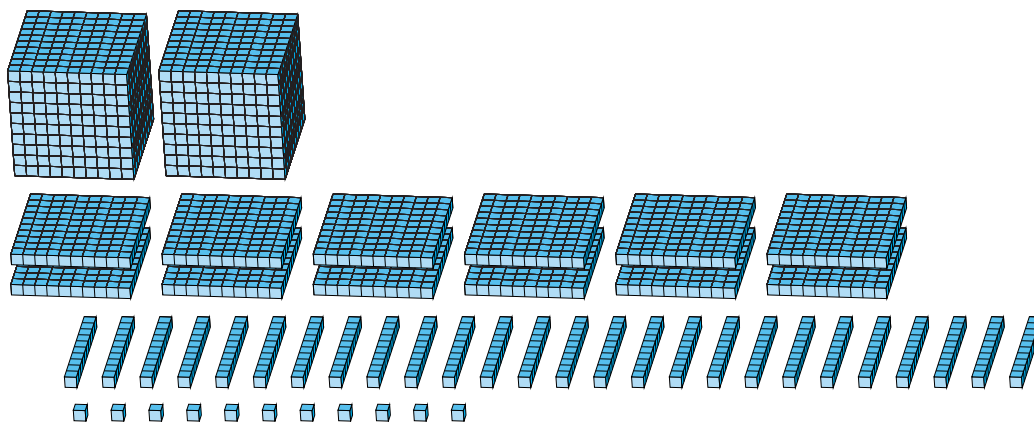
# Regroupement en Blocs de Base Dix (I)

Nom: \_\_\_\_\_

Date: \_\_\_\_\_

Quel est le nombre indiqué dans chaque bloc de base dix?

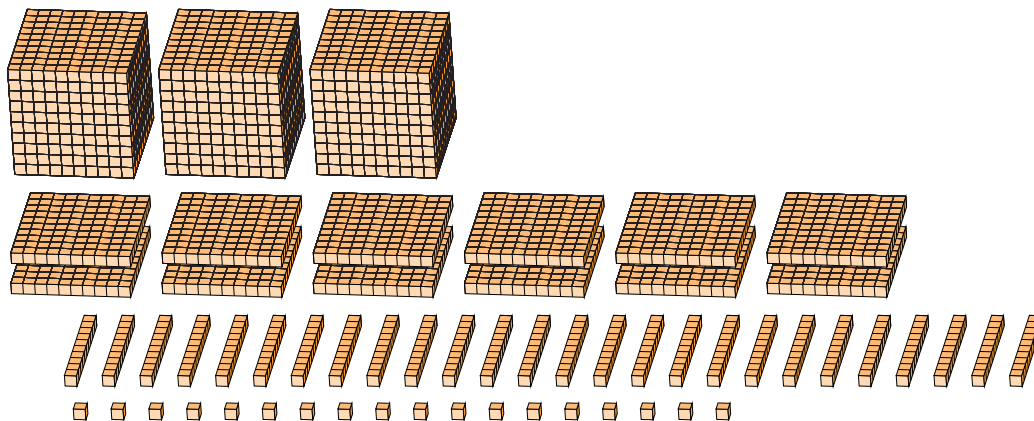
1.



Forme Élargie

Forme Standard

2.



Forme Élargie

Forme Standard

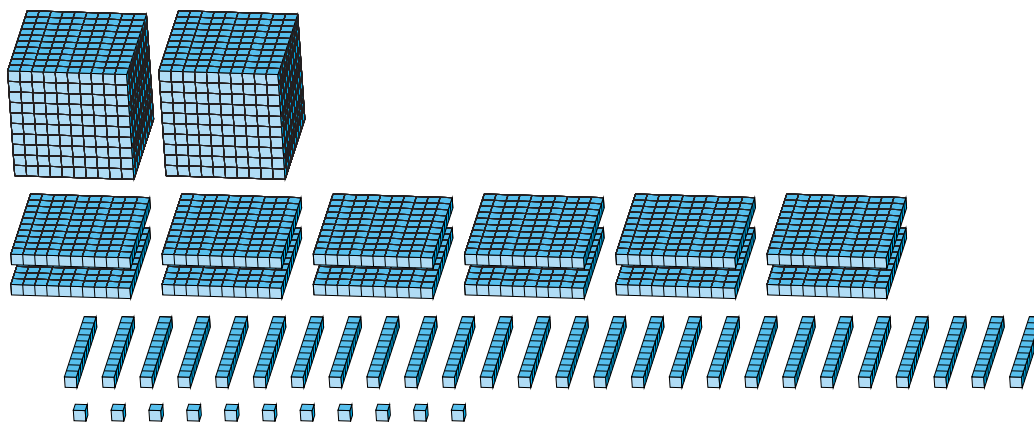
# Regroupement en Blocs de Base Dix (I) Réponses

Nom: \_\_\_\_\_

Date: \_\_\_\_\_

Quel est le nombre indiqué dans chaque bloc de base dix?

1.



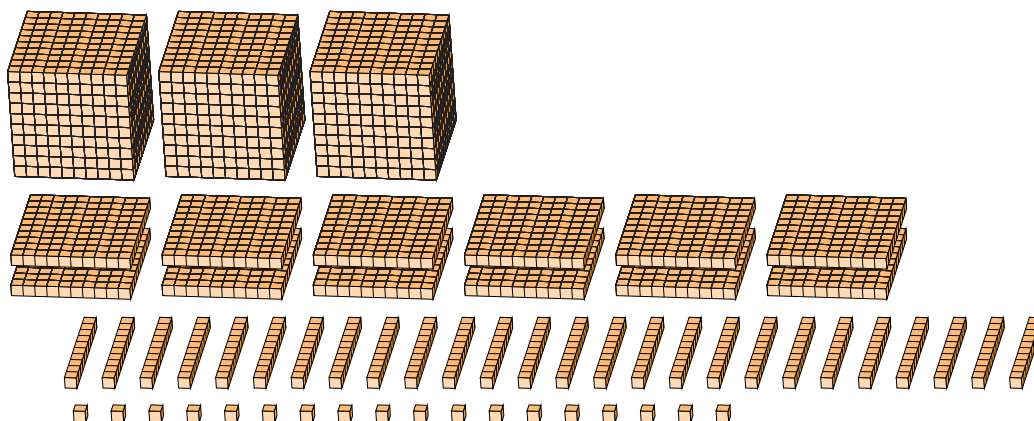
Forme Élargie

Forme Standard

$$\begin{aligned}
 &(2 \times 1000) + (12 \times 100) + (26 \times 10) + (11 \times 1) \\
 &(3 \times 1000) + (4 \times 100) + (7 \times 10) + (1 \times 1) \\
 &3000 + 400 + 70 + 1
 \end{aligned}$$

3471

2.



Forme Élargie

Forme Standard

$$\begin{aligned}
 &(3 \times 1000) + (12 \times 100) + (26 \times 10) + (18 \times 1) \\
 &(4 \times 1000) + (4 \times 100) + (7 \times 10) + (8 \times 1) \\
 &4000 + 400 + 70 + 8
 \end{aligned}$$

4478