

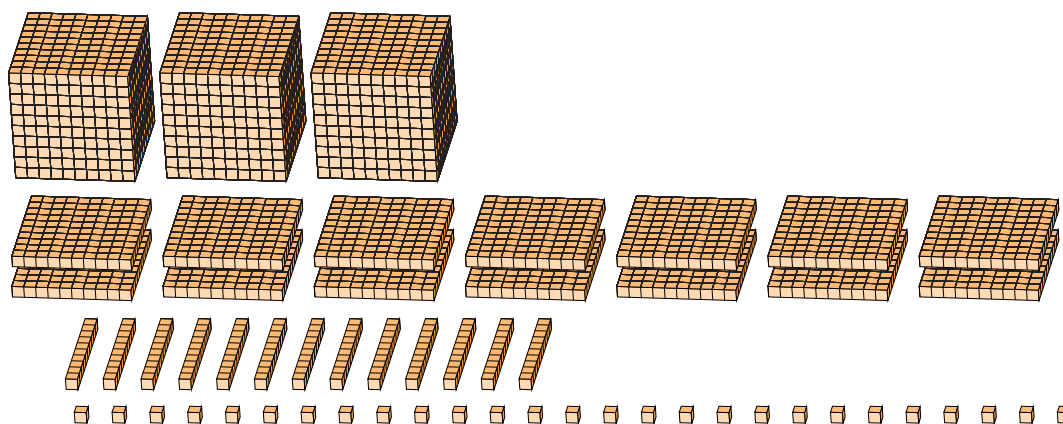
# Regroupement en Blocs de Base Dix (H)

Nom: \_\_\_\_\_

Date: \_\_\_\_\_

Quel est le nombre indiqué dans chaque bloc de base dix?

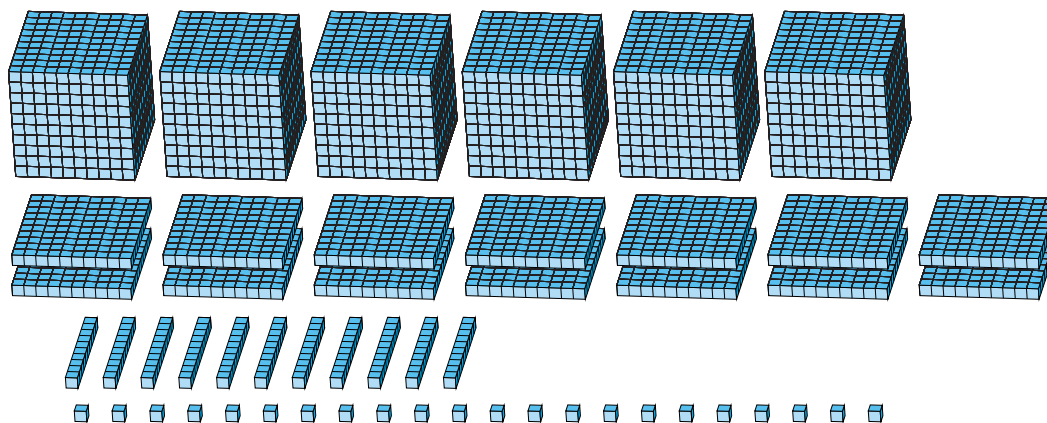
1.



Forme Élargie

Forme Standard

2.



Forme Élargie

Forme Standard

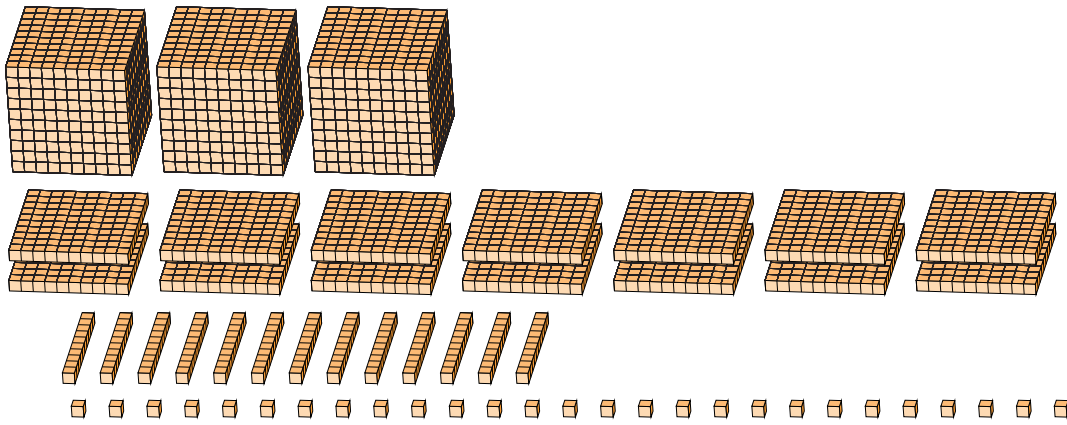
# Regroupement en Blocs de Base Dix (H) Réponses

Nom: \_\_\_\_\_

Date: \_\_\_\_\_

Quel est le nombre indiqué dans chaque bloc de base dix?

1.



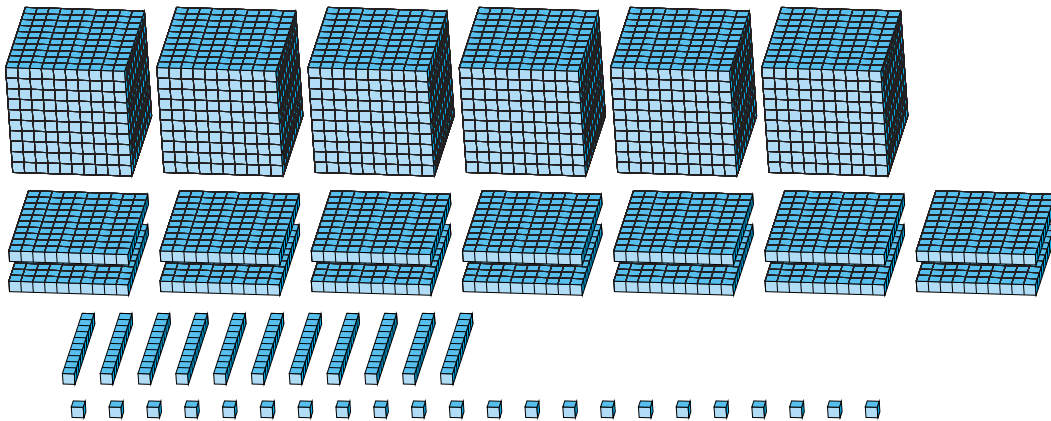
Forme Élargie

Forme Standard

$$\begin{aligned}
 &(3 \times 1000) + (14 \times 100) + (13 \times 10) + (27 \times 1) \\
 &(4 \times 1000) + (5 \times 100) + (5 \times 10) + (7 \times 1) \\
 &4000 + 500 + 50 + 7
 \end{aligned}$$

4557

2.



Forme Élargie

Forme Standard

$$\begin{aligned}
 &(6 \times 1000) + (14 \times 100) + (11 \times 10) + (22 \times 1) \\
 &(7 \times 1000) + (5 \times 100) + (3 \times 10) + (2 \times 1) \\
 &7000 + 500 + 30 + 2
 \end{aligned}$$

7532