


Regroupement en Blocs de Base Dix (F)

Nom: _____

Date: _____

Quel est le nombre indiqué dans chaque bloc de base dix?

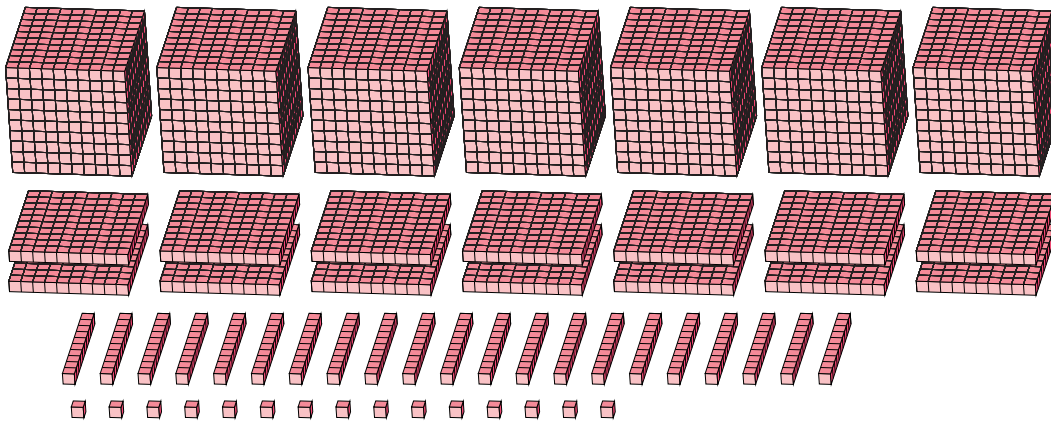
1.



Forme Élargie

Forme Standard

2.



Forme Élargie

Forme Standard

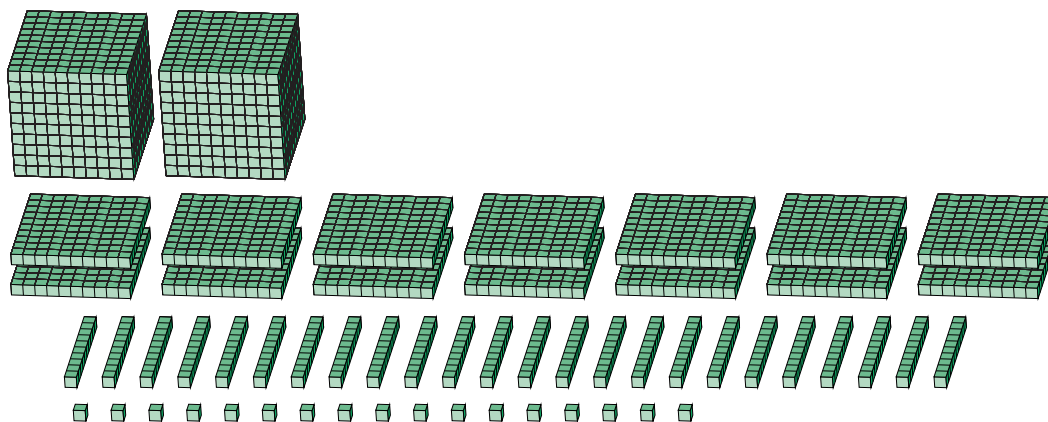
Regroupement en Blocs de Base Dix (F) Réponses

Nom: _____

Date: _____

Quel est le nombre indiqué dans chaque bloc de base dix?

1.



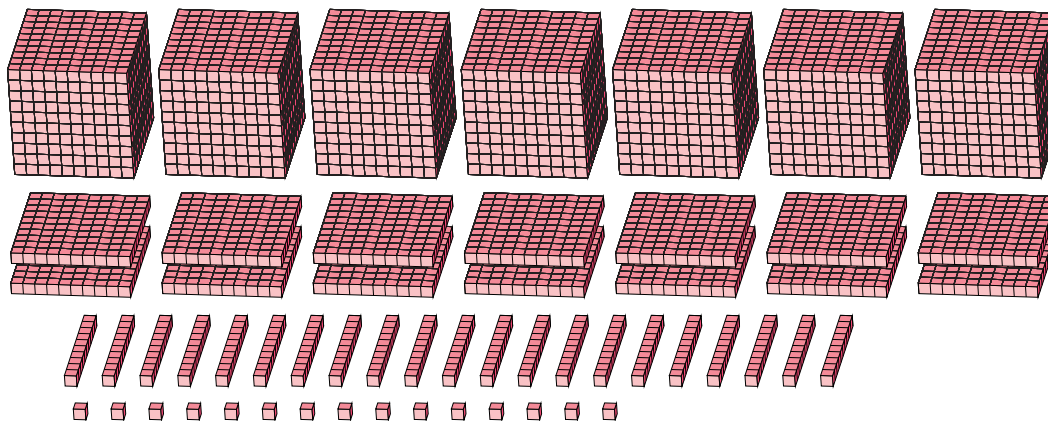
Forme Élargie

Forme Standard

$$\begin{aligned}
 &(2 \times 1000) + (14 \times 100) + (24 \times 10) + (17 \times 1) \\
 &(3 \times 1000) + (6 \times 100) + (5 \times 10) + (7 \times 1) \\
 &3000 + 600 + 50 + 7
 \end{aligned}$$

3657

2.



Forme Élargie

Forme Standard

$$\begin{aligned}
 &(7 \times 1000) + (14 \times 100) + (21 \times 10) + (15 \times 1) \\
 &(8 \times 1000) + (6 \times 100) + (2 \times 10) + (5 \times 1) \\
 &8000 + 600 + 20 + 5
 \end{aligned}$$

8625