


Représentation de Nombres (E)

Quel nombre est représenté par chaque groupe de blocs ci-dessous?



1000



100




10



1

Représentation de Nombres (E) Réponses

Quel nombre est représenté par chaque groupe de blocs ci-dessous?



1000




100




10



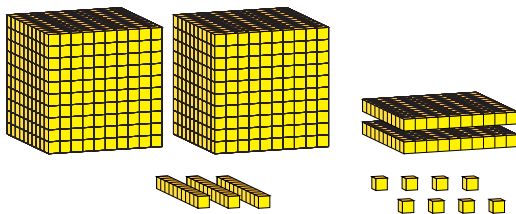
1



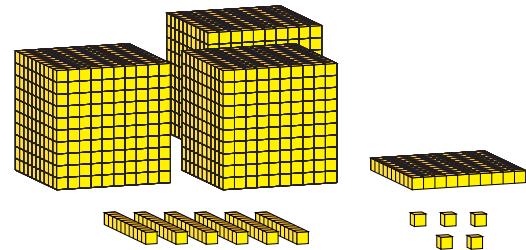
4370



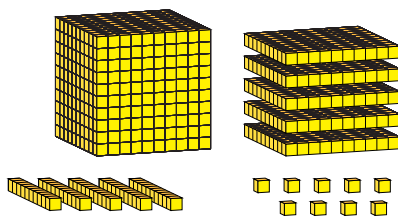
1011



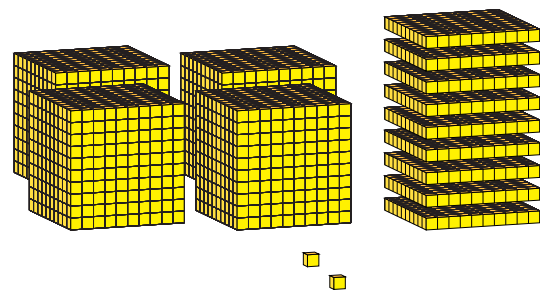
2238



3165



1559



4902