

Représentation de Nombres (I)

Quel nombre est représenté par chaque groupe de blocs ci-dessous?



100



10



1

Représentation de Nombres (I) Réponses

Quel nombre est représenté par chaque groupe de blocs ci-dessous?



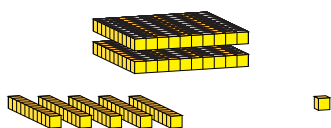
100



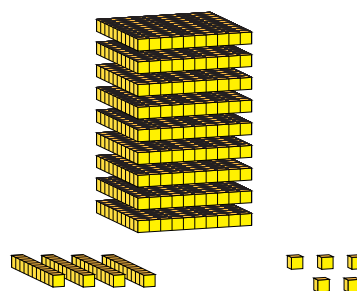
10



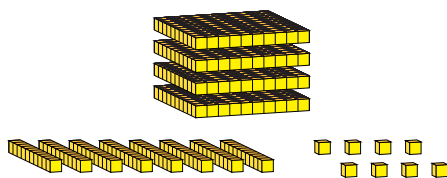
1



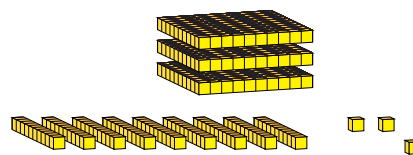
251



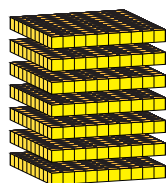
945



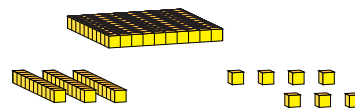
488



393



700



137