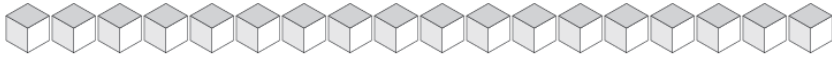
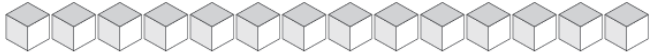


Échange de Blocs de Base Dix (I)

Combien d'unités pouvez-vous échanger pour des dizaines? Combien vous en restera-t-il?



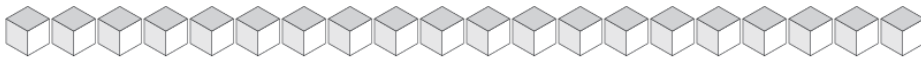
Dizaines	Unités



Dizaines	Unités



Dizaines	Unités



Dizaines	Unités



Dizaines	Unités

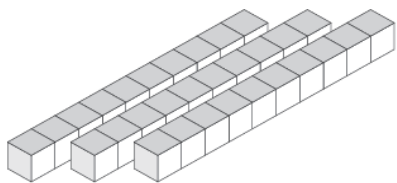


Dizaines	Unités

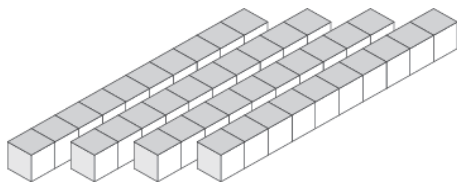


Échange de Blocs de Base Dix (I) Solutions

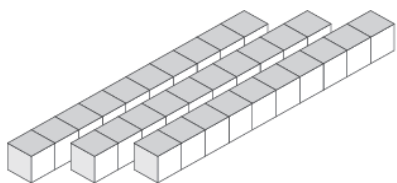
Combien d'unités pouvez-vous échanger pour des dizaines? Combien vous en restera-t-il?



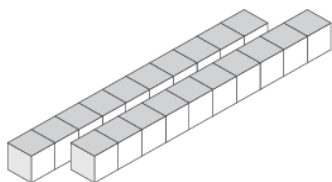
Dizaines	Unités
3	2



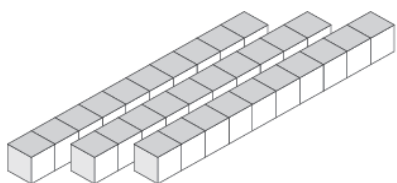
Dizaines	Unités
4	4



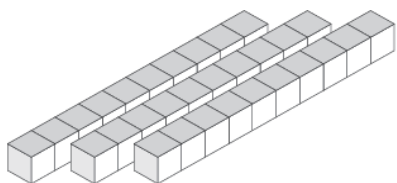
Dizaines	Unités
3	0



Dizaines	Unités
2	1



Dizaines	Unités
3	8



Dizaines	Unités
3	6