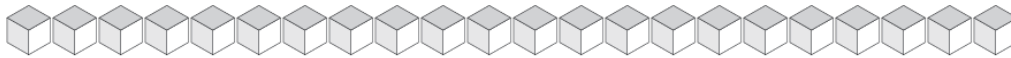


Échange de Blocs de Base Dix (D)

Combien d'unités pouvez-vous échanger pour des dizaines? Combien vous en restera-t-il?



Dizaines	Unités



Dizaines	Unités



Dizaines	Unités



Dizaines	Unités



Dizaines	Unités

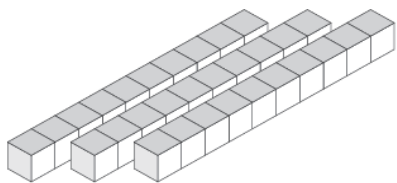


Dizaines	Unités

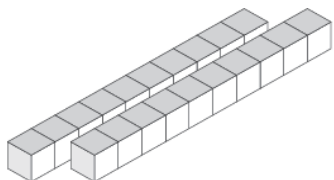


Échange de Blocs de Base Dix (D) Solutions

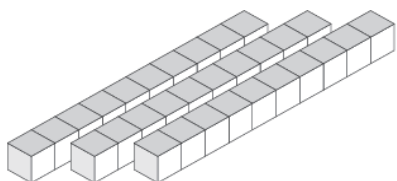
Combien d'unités pouvez-vous échanger pour des dizaines? Combien vous en restera-t-il?



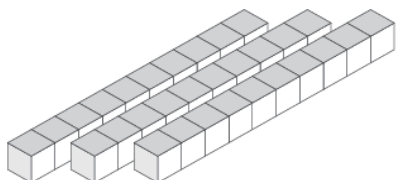
Dizaines	Unités
3	3



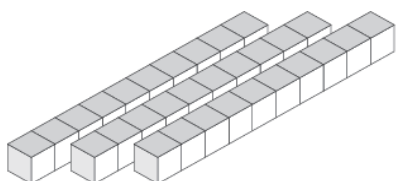
Dizaines	Unités
2	6



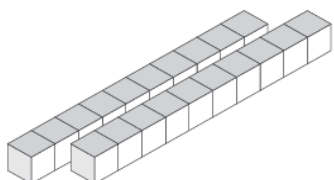
Dizaines	Unités
3	7



Dizaines	Unités
3	4



Dizaines	Unités
3	0



Dizaines	Unités
2	7