
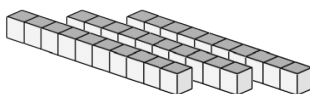


Compte de Blocs de Base Dix (B)

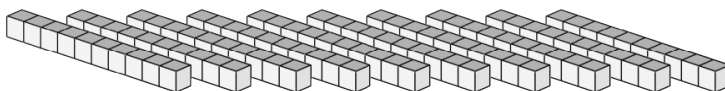
Instructions: Chaque bâtonnet vaut une dizaine. Que vaut chaque groupe de dizaines ci-dessous?




La valeur de ce groupe de dizaines est _____.



La valeur de ce groupe de dizaines est _____.



La valeur de ce groupe de dizaines est _____.



La valeur de ce groupe de dizaines est _____.