
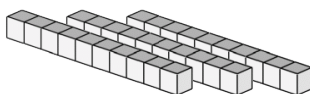


Compte de Blocs de Base Dix (B)

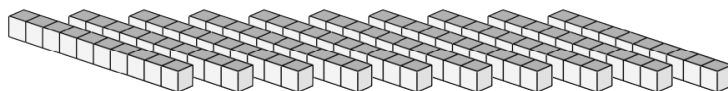
Instructions: Chaque bâtonnet vaut une dizaine. Que vaut chaque groupe de dizaines ci-dessous?




La valeur de ce groupe de dizaines est _____.



La valeur de ce groupe de dizaines est _____.




La valeur de ce groupe de dizaines est _____.



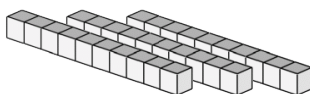
La valeur de ce groupe de dizaines est _____.

Compte de Blocs de Base Dix Solutions (B)

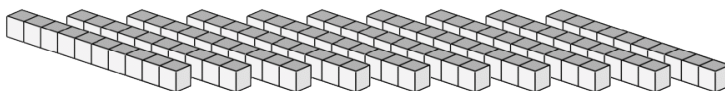
Instructions: Chaque bâtonnet vaut une dizaine. Que vaut chaque groupe de dizaines ci-dessous?




La valeur de ce groupe de dizaines est 70.



La valeur de ce groupe de dizaines est 30.



La valeur de ce groupe de dizaines est 100.



La valeur de ce groupe de dizaines est 80.