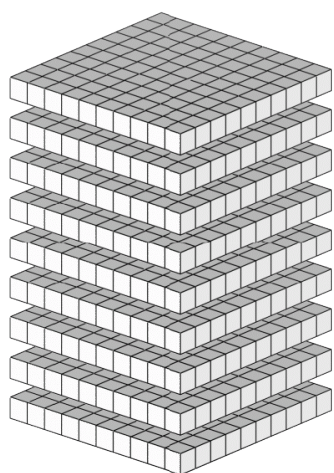
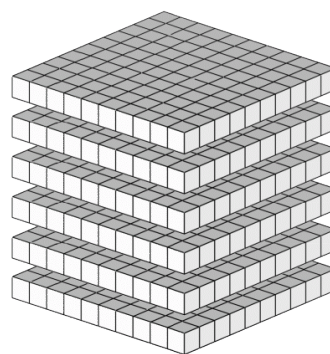


# Compte de Blocs de Base Dix (A)

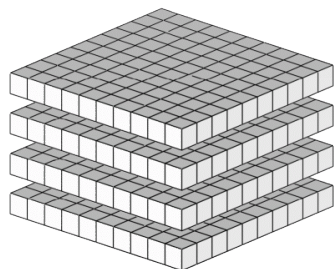
Instructions: Chaque bloc vaut une centaine. Que vaut chaque groupe de centaines ci-dessous?



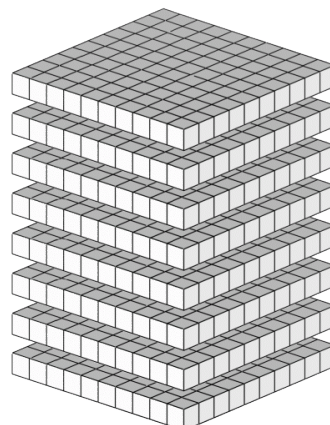
La valeur de ce groupe de centaines est \_\_\_\_\_.



La valeur de ce groupe de centaines est \_\_\_\_\_.



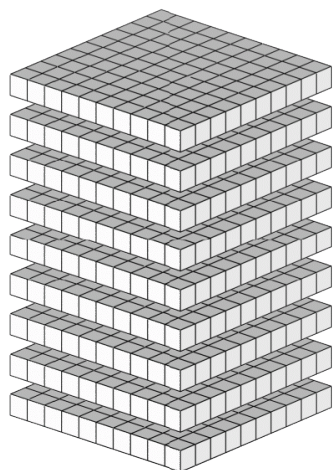
La valeur de ce groupe de centaines est \_\_\_\_\_.



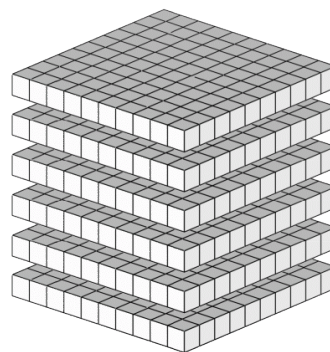
La valeur de ce groupe de centaines est \_\_\_\_\_.

# Compte de Blocs de Base Dix Solutions (A)

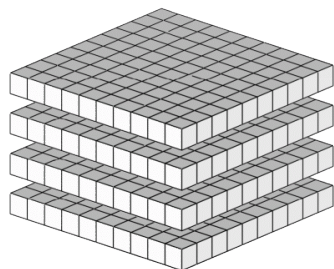
Instructions: Chaque bloc vaut une centaine. Que vaut chaque groupe de centaines ci-dessous?



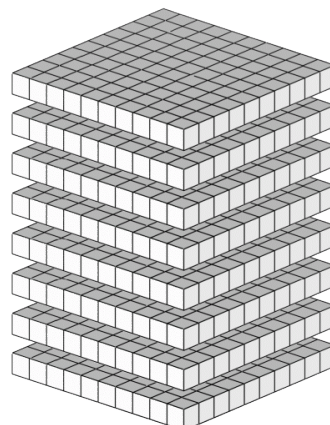
La valeur de ce groupe de centaines est 900.



La valeur de ce groupe de centaines est 600.



La valeur de ce groupe de centaines est 400.



La valeur de ce groupe de centaines est 800.