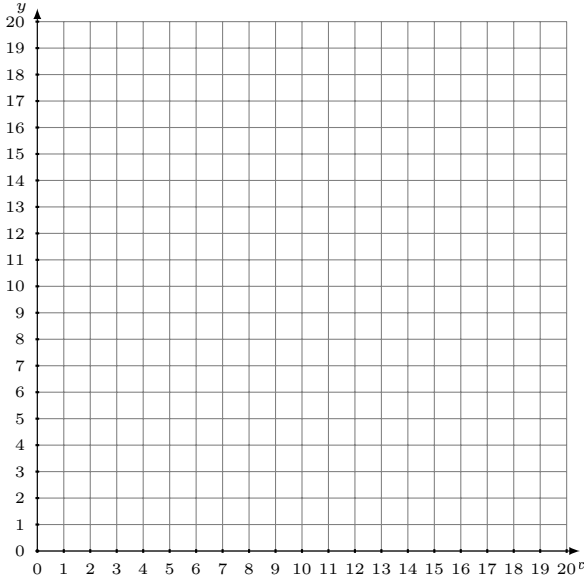


Représentation Graphique d'un Système d'Équations (J)

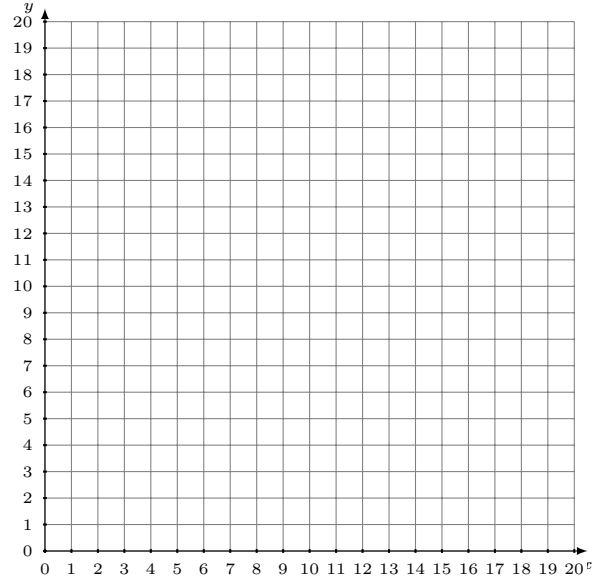
Représentez à l'aide d'un graphique chaque système et identifiez sa solution.

1.
$$y = -\frac{1}{17}x + 3$$
$$y = -\frac{9}{17}x + 11$$



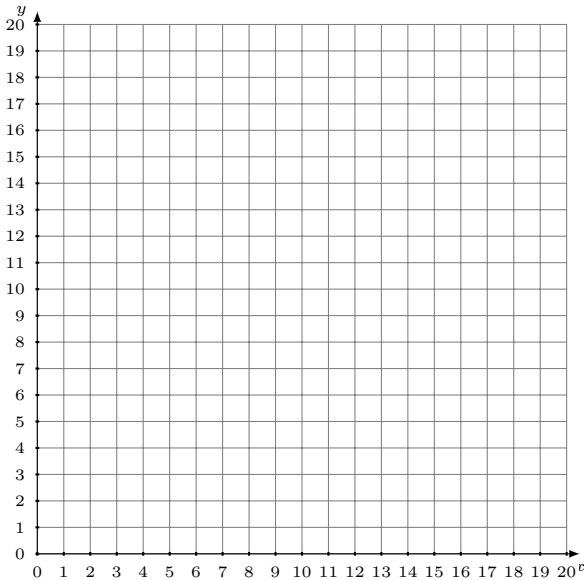
Solution: (----,----)

2.
$$y = -\frac{9}{4}x + 13$$
$$y = -2x + 12$$



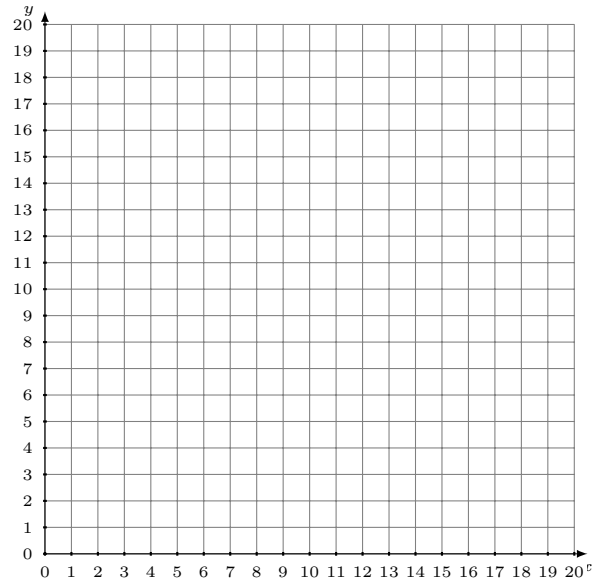
Solution: (----,----)

3.
$$y = \frac{4}{11}x + 8$$
$$y = -\frac{2}{11}x + 14$$



Solution: (----,----)

4.
$$y = -\frac{11}{14}x + 18$$
$$y = -\frac{4}{7}x + 15$$



Solution: (----,----)