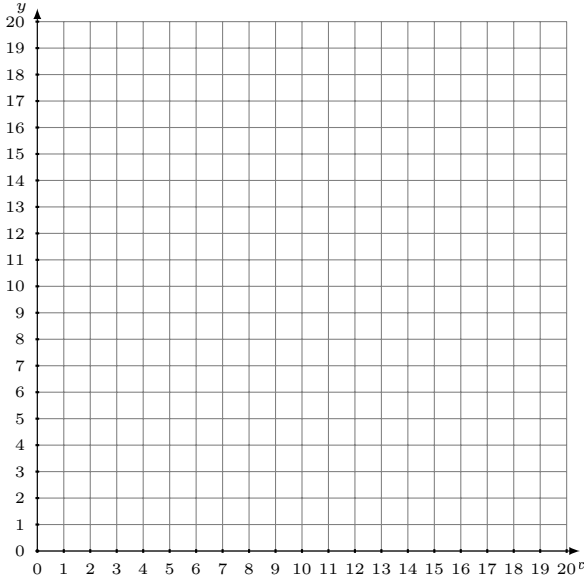


Représentation Graphique d'un Système d'Équations (C)

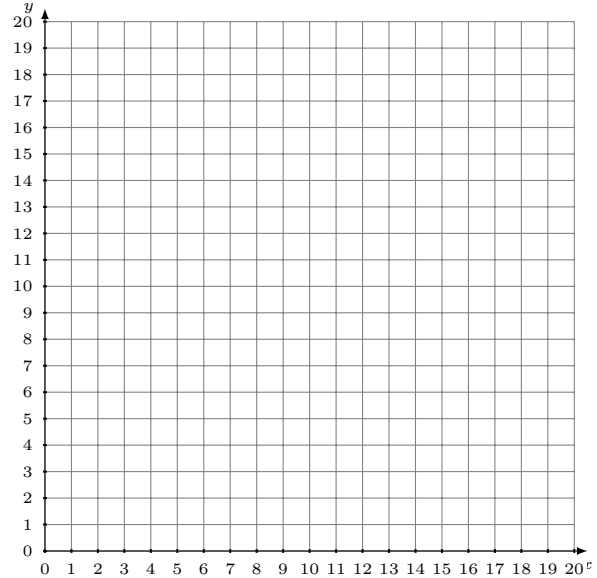
Représentez à l'aide d'un graphique chaque système et identifiez sa solution.

1.
$$y = 14$$
$$y = -\frac{1}{4}x + 18$$



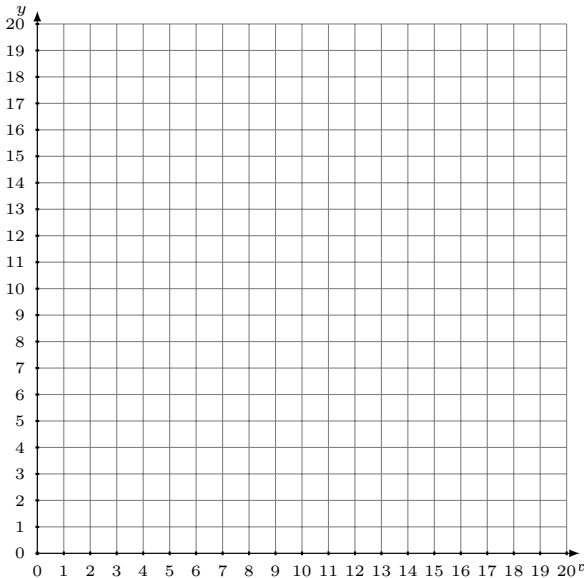
Solution: (----,----)

2.
$$y = \frac{2}{15}x + 2$$
$$y = \frac{1}{5}x + 1$$



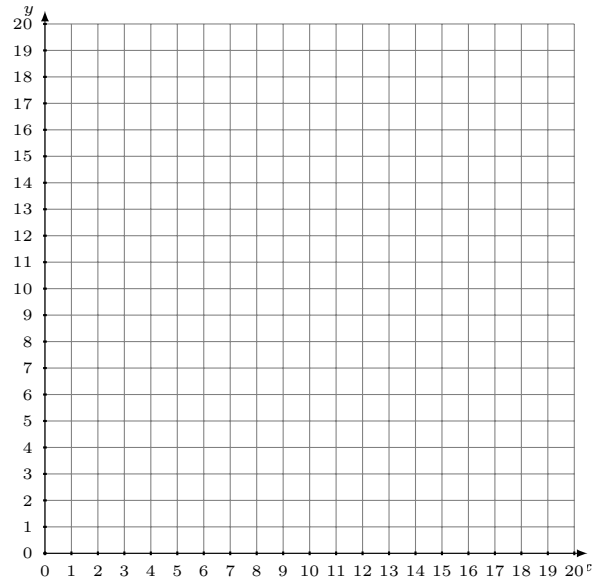
Solution: (----,----)

3.
$$y = -\frac{1}{8}x + 2$$
$$y = -\frac{11}{8}x + 12$$



Solution: (----,----)

4.
$$y = \frac{2}{11}x + 12$$
$$y = \frac{9}{11}x + 5$$



Solution: (----,----)