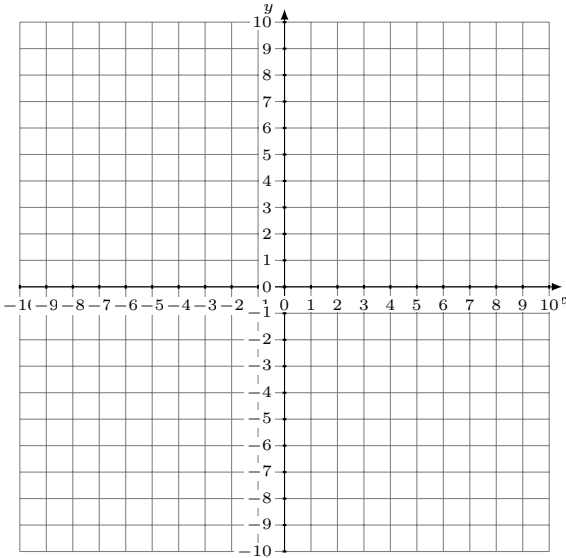


# Représentation Graphique d'un Système d'Équations (F)

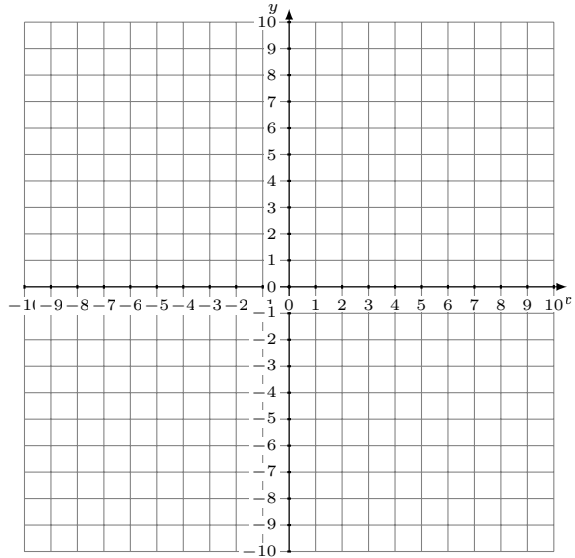
Représentez à l'aide d'un graphique chaque système et identifiez sa solution.

1.  $y = 4x - 3$   
 $y = 3x$



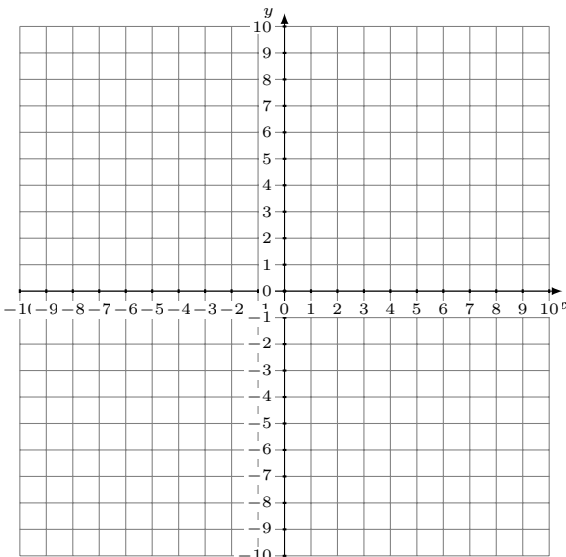
Solution: (----,----)

2.  $y = 7$   
 $y = \frac{1}{2}x + 5$



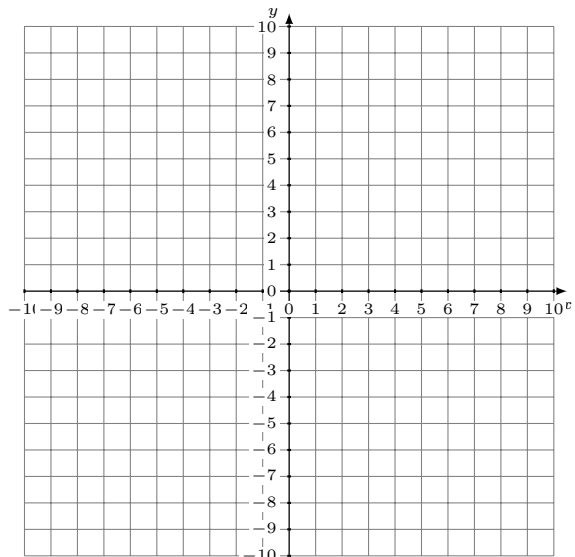
Solution: (----,----)

3.  $y = \frac{11}{4}x + 2$   
 $y = 4x + 7$



Solution: (----,----)

4.  $y = \frac{15}{8}x + 9$   
 $y = \frac{7}{8}x + 1$



Solution: (----,----)