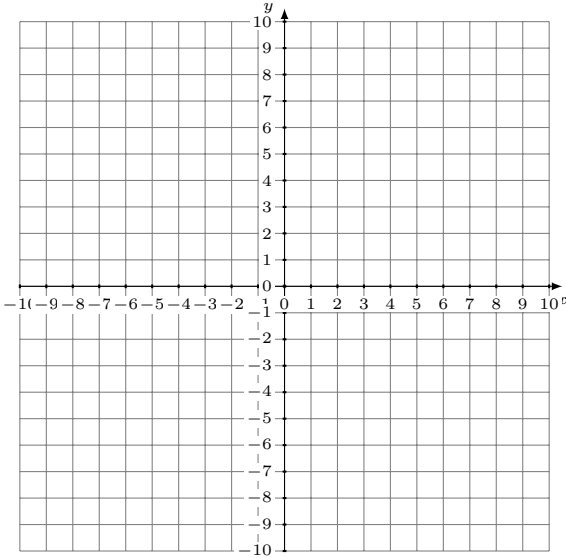


Représentation Graphique d'un Système d'Équations (B)

Représentez à l'aide d'un graphique chaque système et identifiez sa solution.

1.

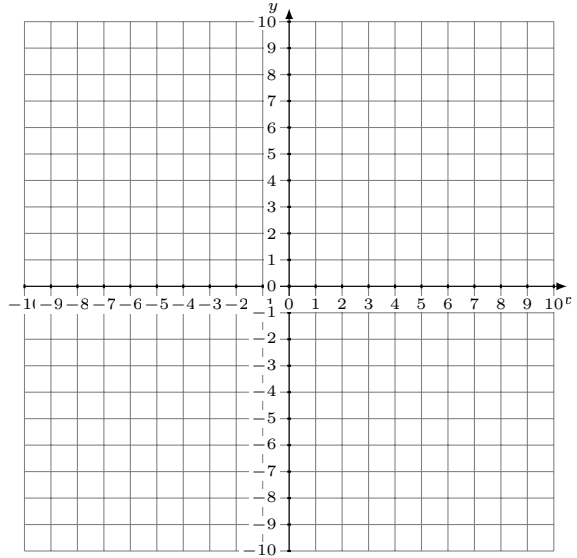
$$y = 2$$
$$y = -\frac{5}{3}x - 8$$



Solution: (----,----)

2.

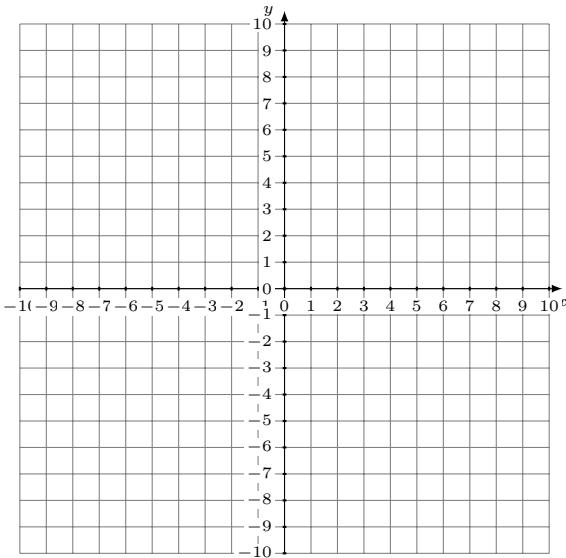
$$y = \frac{3}{7}x$$
$$y = 3$$



Solution: (----,----)

3.

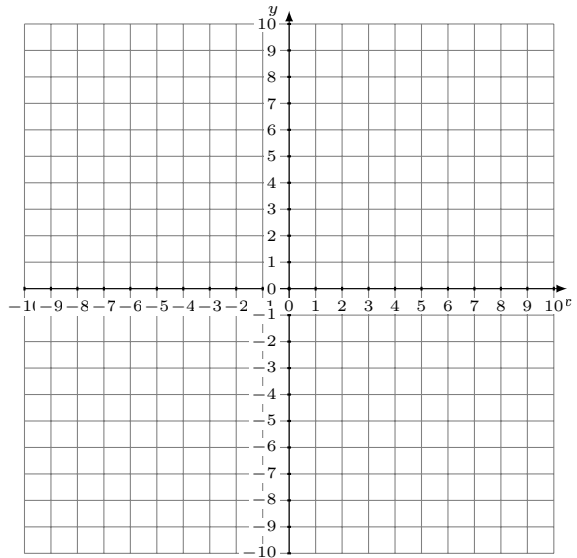
$$y = -\frac{1}{3}x - 5$$
$$y = -3x + 3$$



Solution: (----,----)

4.

$$y = -3x + 1$$
$$y = -\frac{15}{2}x - 8$$



Solution: (----,----)