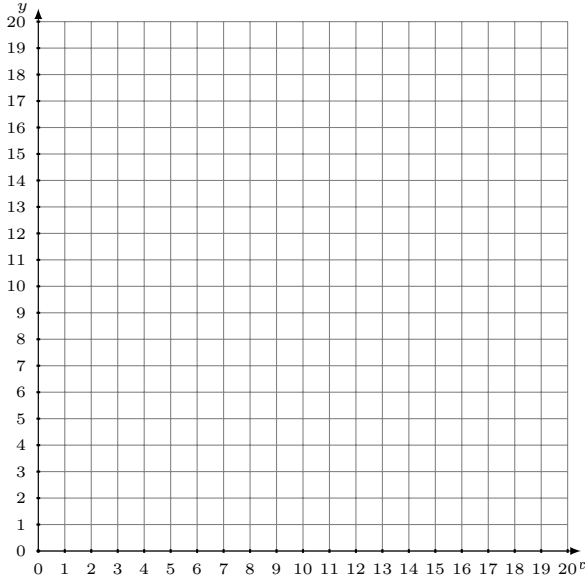


Représentation Graphique d'un Système d'Équations (B)

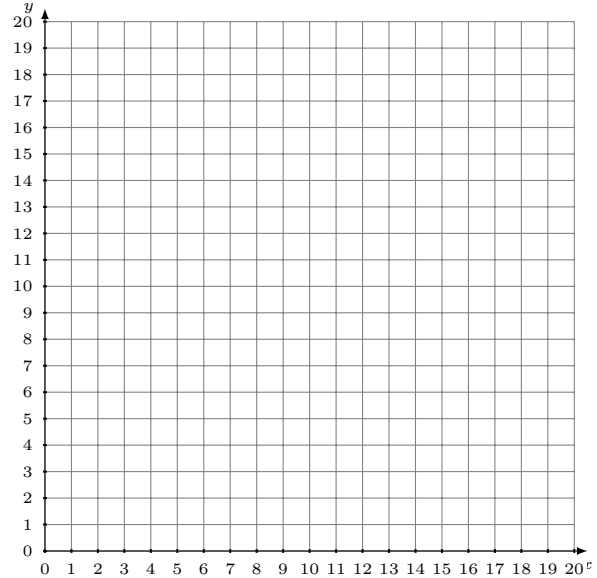
Représentez à l'aide d'un graphique chaque système et identifiez sa solution.

1.
$$y = \frac{14}{17}x$$
$$3x + 17y = 289$$



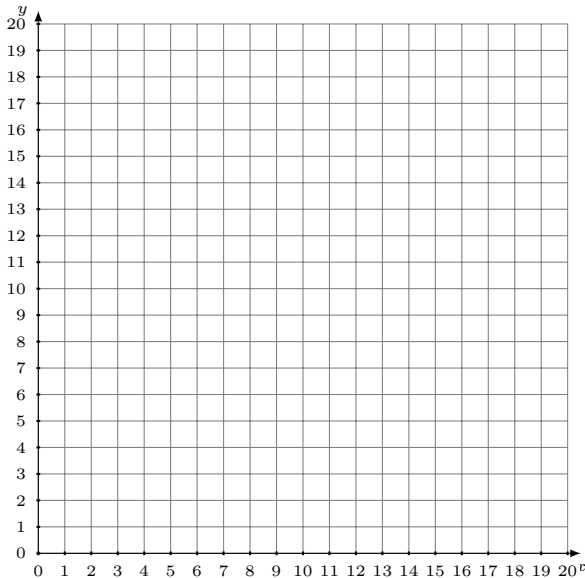
Solution: (----,----)

2.
$$11x - 6y = -42$$
$$3x - y = 0$$



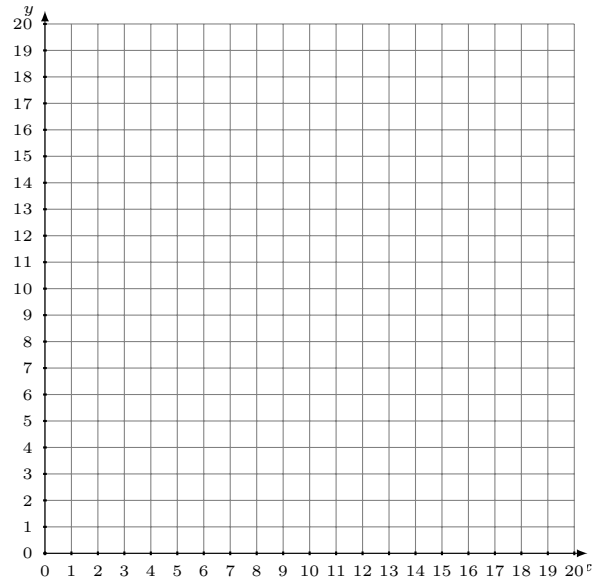
Solution: (----,----)

3.
$$y = \frac{5}{7}x + 2$$
$$y = 7$$



Solution: (----,----)

4.
$$3x + 4y = 64$$
$$x - 12y = -72$$



Solution: (----,----)