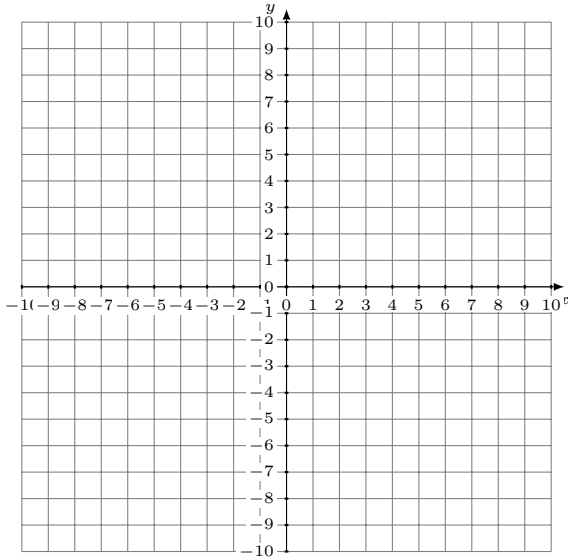


Représentation Graphique d'un Système d'Équations (G)

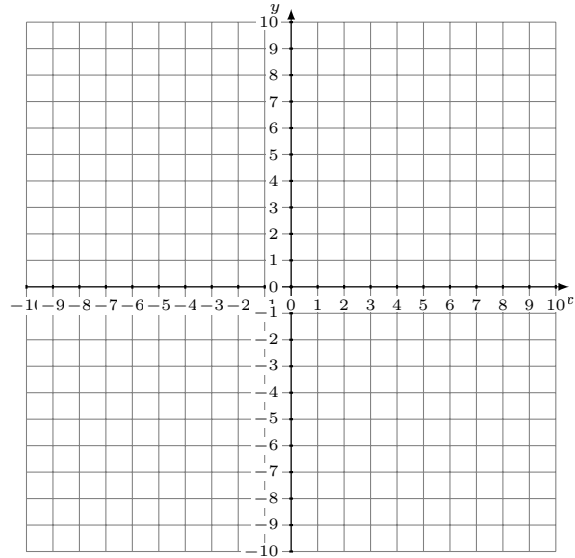
Représentez à l'aide d'un graphique chaque système et identifiez sa solution.

1. $11x + 3y = -21$
 $10x + 3y = -18$



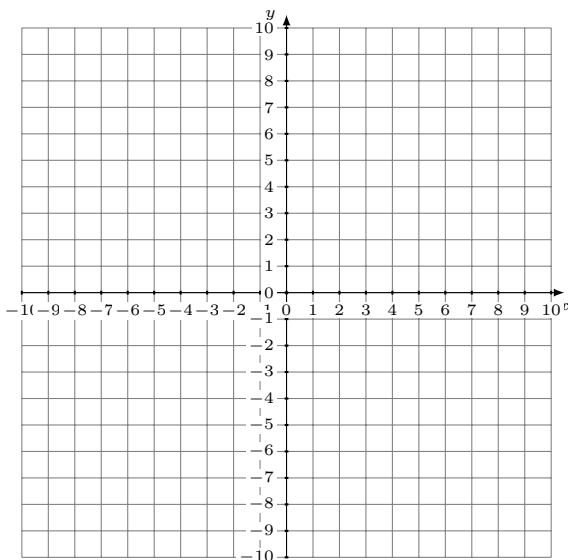
Solution: (----,----)

2. $x + y = -1$
 $5x + 3y = -21$



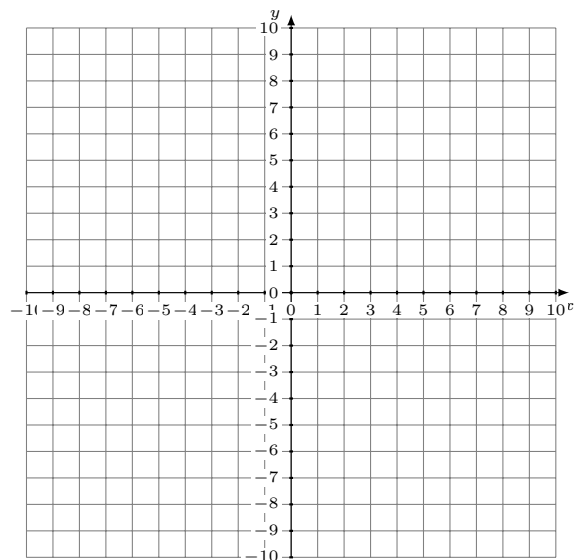
Solution: (----,----)

3. $16x - 9y = -81$
 $10x - 9y = -27$



Solution: (----,----)

4. $x - 2y = -16$
 $x - 4y = -28$

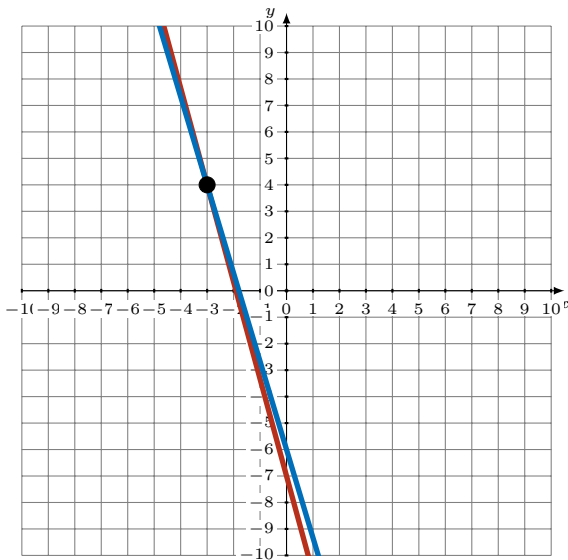


Solution: (----,----)

Représentation Graphique d'un Système d'Équations (G) Réponses

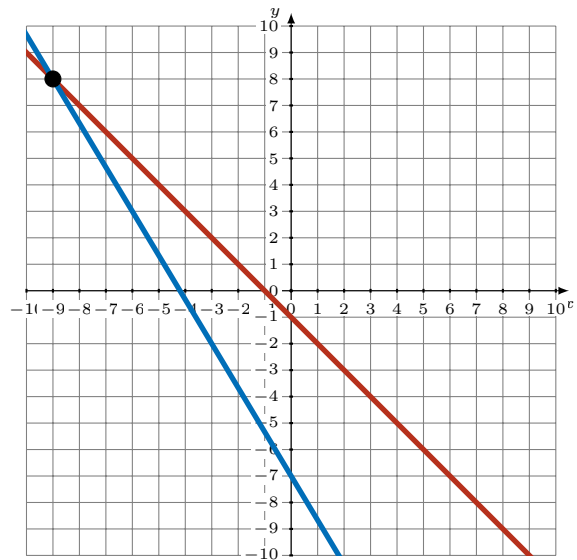
Représentez à l'aide d'un graphique chaque système et identifiez sa solution.

1. $11x + 3y = -21$
 $10x + 3y = -18$



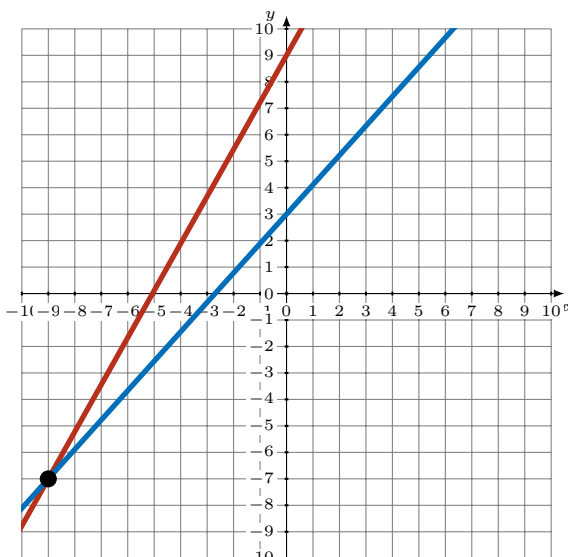
Solution: $(-3, 4)$

2. $x + y = -1$
 $5x + 3y = -21$



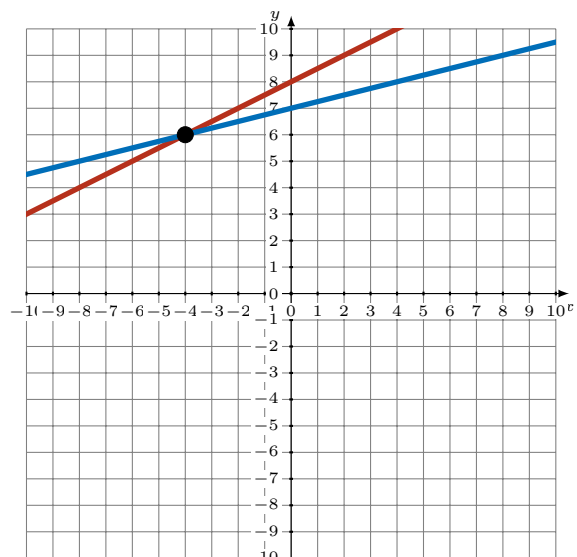
Solution: $(-9, 8)$

3. $16x - 9y = -81$
 $10x - 9y = -27$



Solution: $(-9, -7)$

4. $x - 2y = -16$
 $x - 4y = -28$



Solution: $(-4, 6)$