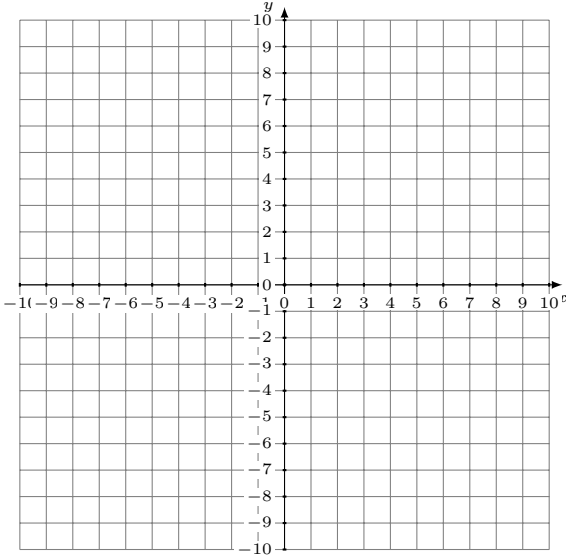


Représentation Graphique d'un Système d'Équations (C)

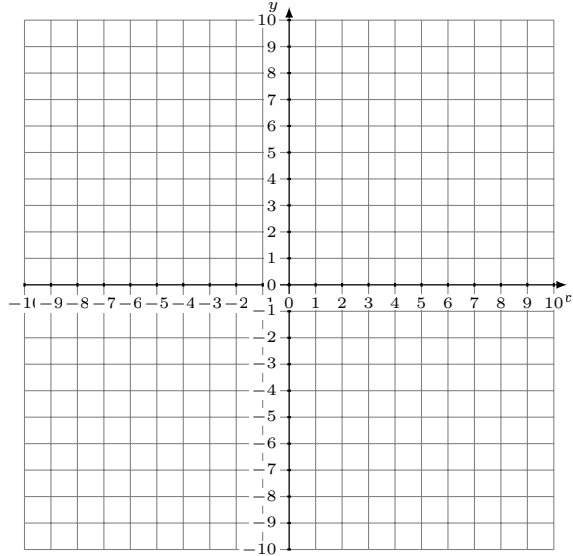
Représentez à l'aide d'un graphique chaque système et identifiez sa solution.

1.
$$x - y = 1$$
$$y = 2$$



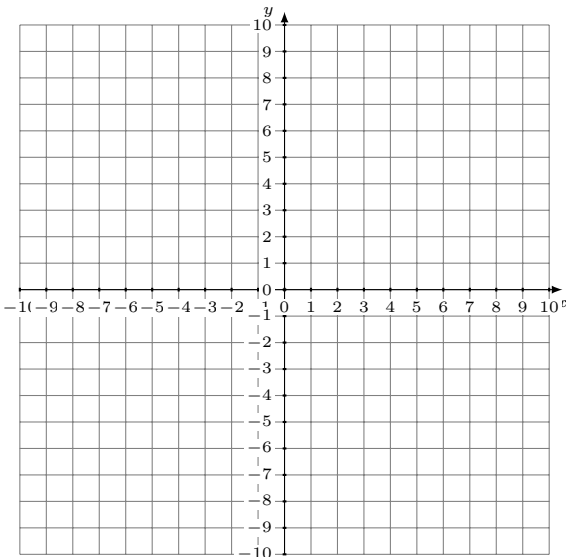
Solution: (----,----)

2.
$$2x + 9y = -18$$
$$2x - 9y = 54$$



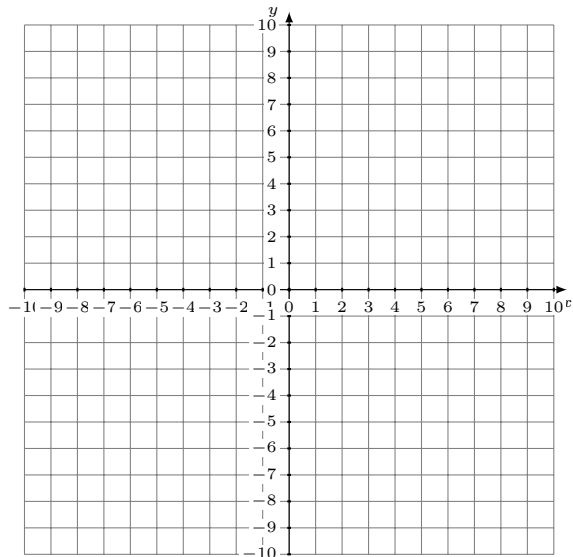
Solution: (----,----)

3.
$$x + y = 6$$
$$3x + 7y = 14$$



Solution: (----,----)

4.
$$18x + 5y = -45$$
$$3x + 5y = 30$$



Solution: (----,----)