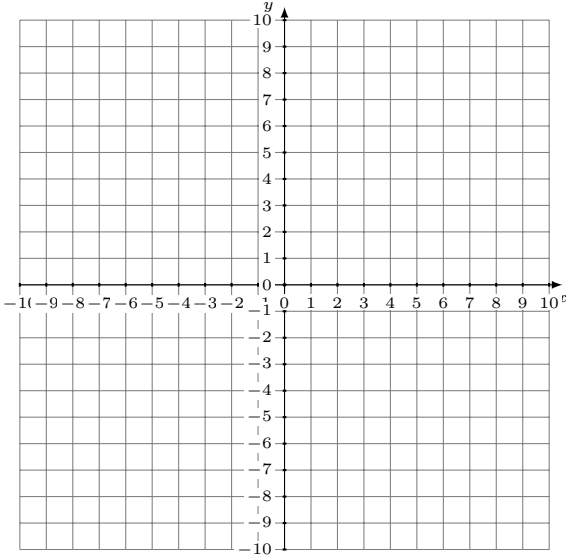


Représentation Graphique d'un Système d'Équations (A)

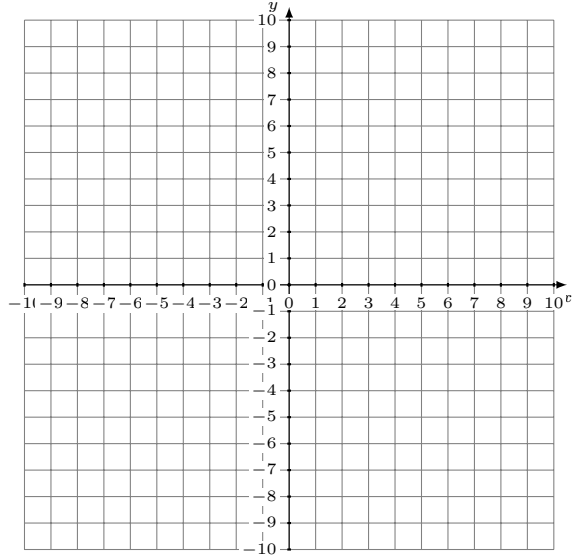
Représentez à l'aide d'un graphique chaque système et identifiez sa solution.

1. $x - y = -5$
 $15x - 4y = 24$



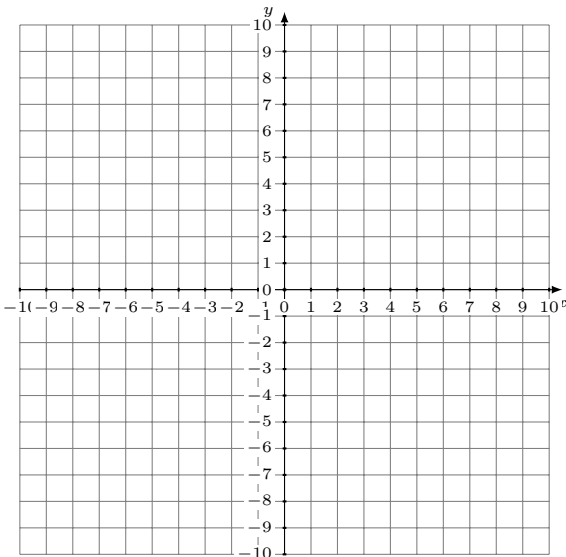
Solution: (----,----)

2. $y = -1$
 $3x + 2y = -14$



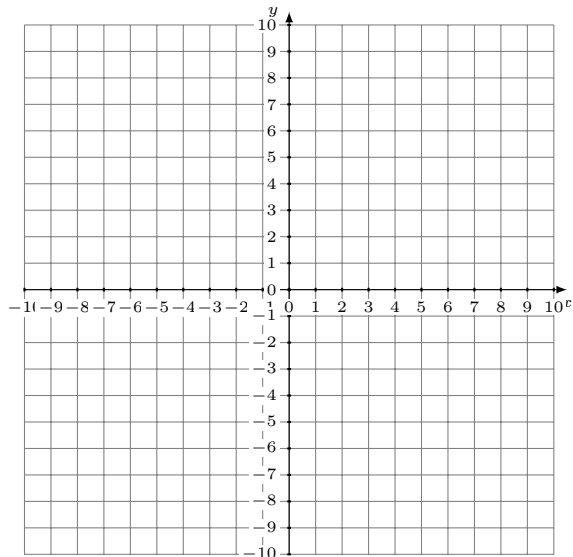
Solution: (----,----)

3. $2x + y = -2$
 $6x + y = 6$



Solution: (----,----)

4. $5x + 8y = -24$
 $x - 2y = -12$



Solution: (----,----)