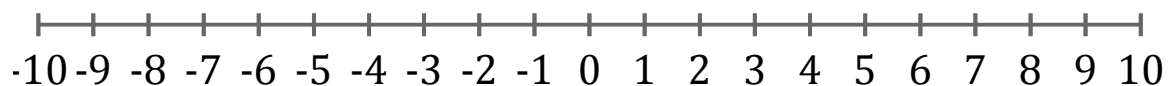


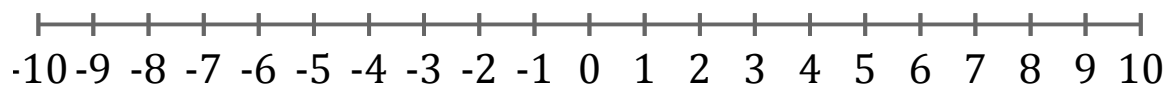
## Représentation Graphique d'une Inéquation (H)

Représentez sur une droite graduée la solution de l'inéquation suivante.

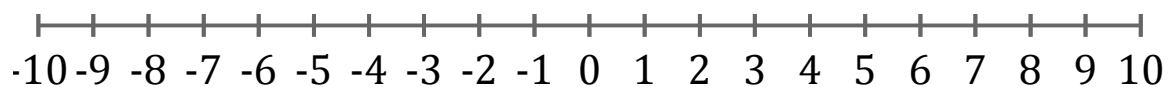
1.  $x > -8$



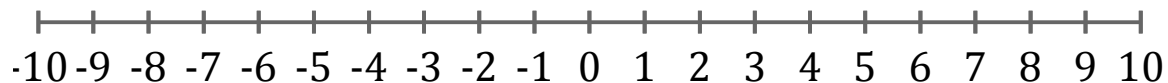
2.  $x \leq -8$



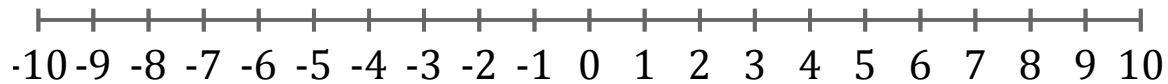
3.  $x < -9$



4.  $x > -1$



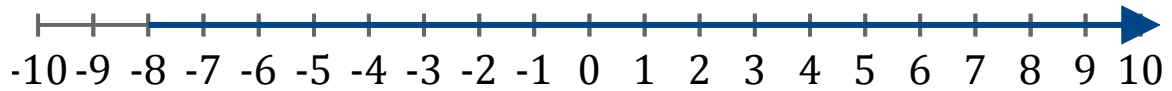
5.  $x < 0$



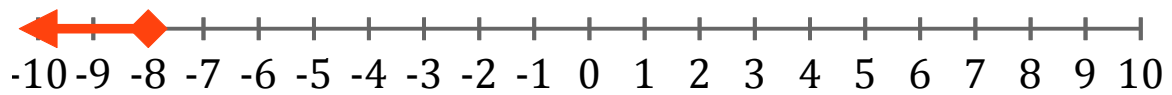
## Représentation Graphique d'une Inéquation (H) Réponses

Représentez sur une droite graduée la solution de l'inéquation suivante.

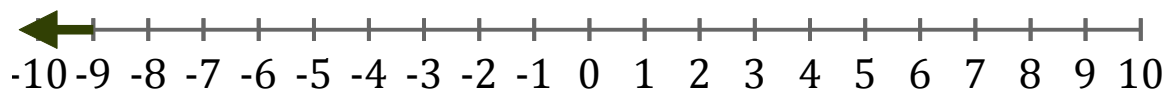
1.  $x > -8$



2.  $x \leq -8$



3.  $x < -9$



4.  $x > -1$



5.  $x < 0$

