

# Addition de Cartes de Jeux (A)

Calculez la somme de chaque ensemble de cartes.



# Addition de Cartes de Jeux (A) Solutions

Calculez la somme de chaque ensemble de cartes.



23



19



27



38



32



40



48



44



32



20



34



26

# Addition de Cartes de Jeux (B)

Calculez la somme de chaque ensemble de cartes.



# Addition de Cartes de Jeux (B) Solutions

Calculez la somme de chaque ensemble de cartes.



30



26



31



31



30



18



23



25



31



23



29



23

# Addition de Cartes de Jeux (C)

Calculez la somme de chaque ensemble de cartes.



# Addition de Cartes de Jeux (C) Solutions

Calculez la somme de chaque ensemble de cartes.



25



35



14



29



26



21



35



23



20



30



29



30

# Addition de Cartes de Jeux (D)

Calculez la somme de chaque ensemble de cartes.



# Addition de Cartes de Jeux (D) Solutions

Calculez la somme de chaque ensemble de cartes.



28



11



17



43



40



37



21



36



24



22



26



18



# Addition de Cartes de Jeux (E)

Calculez la somme de chaque ensemble de cartes.



# Addition de Cartes de Jeux (E) Solutions

Calculez la somme de chaque ensemble de cartes.



13



33



36



24



32



31



22



36



38



29



38



28

# Addition de Cartes de Jeux (F)

Calculez la somme de chaque ensemble de cartes.



# Addition de Cartes de Jeux (F) Solutions

Calculez la somme de chaque ensemble de cartes.



36



32



32



17



24



32



47



25



22



26



33



33

# Addition de Cartes de Jeux (G)

Calculez la somme de chaque ensemble de cartes.



# Addition de Cartes de Jeux (G) Solutions

Calculez la somme de chaque ensemble de cartes.



28



35



21



23



21



12



22



35



26



11



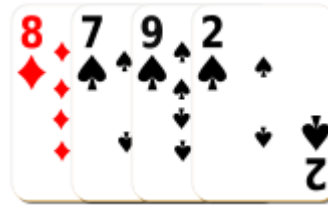
27



29

# Addition de Cartes de Jeux (H)

Calculez la somme de chaque ensemble de cartes.

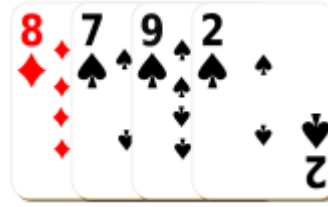


# Addition de Cartes de Jeux (H) Solutions

Calculez la somme de chaque ensemble de cartes.



21



26



29



28



21



41



21



25



19



33



24




30



# Addition de Cartes de Jeux (I)

Calculez la somme de chaque ensemble de cartes.



# Addition de Cartes de Jeux (I) Solutions

Calculez la somme de chaque ensemble de cartes.



41



35



35



28



36



18



32



45



22



21



28



37

# Addition de Cartes de Jeux (J)

Calculez la somme de chaque ensemble de cartes.



# Addition de Cartes de Jeux (J) Solutions

Calculez la somme de chaque ensemble de cartes.



11



29



13



16



32



29



26



22



29



28



34



29