


# Séquence de Nombres Linéaires (J)

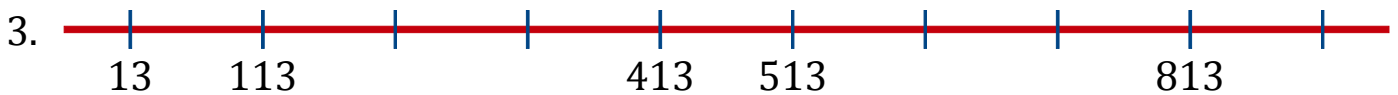
Remplissez les nombres qui manquent de chaque nombre linéaire.



Différence commune: \_\_\_\_\_



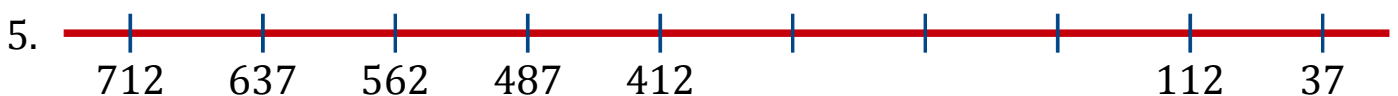
Différence commune: \_\_\_\_\_



Différence commune: \_\_\_\_\_



Différence commune: \_\_\_\_\_




Différence commune: \_\_\_\_\_



Différence commune: \_\_\_\_\_



Différence commune: \_\_\_\_\_



Différence commune: \_\_\_\_\_

# Séquence de Nombres Linéaires (J) Réponses

Remplissez les nombres qui manquent de chaque nombre linéaire.

