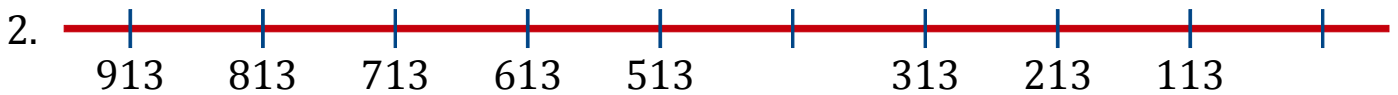


Séquence de Nombres Linéaires (B)

Remplissez les nombres qui manquent de chaque nombre linéaire.



Différence commune: _____



Différence commune: _____



Différence commune: _____



Différence commune: _____



Différence commune: _____



Différence commune: _____




Différence commune: _____





Différence commune: _____


Séquence de Nombres Linéaires (B) Réponses


Remplissez les nombres qui manquent de chaque nombre linéaire.


1. 
198 273 348 423 498 573 648 723 798 873
Différence commune: 75


2. 
913 813 713 613 513 413 313 213 113 13
Différence commune: -100


3. 
821 746 671 596 521 446 371 296 221 146
Différence commune: -75

4. 
775 700 625 550 475 400 325 250 175 100
Différence commune: -75

5. 
998 898 798 698 598 498 398 298 198 98
Différence commune: -100

6. 
354 379 404 429 454 479 504 529 554 579
Différence commune: 25

7. 
136 186 236 286 336 386 436 486 536 586
Différence commune: 50

8. 
917 817 717 617 517 417 317 217 117 17
Différence commune: -100