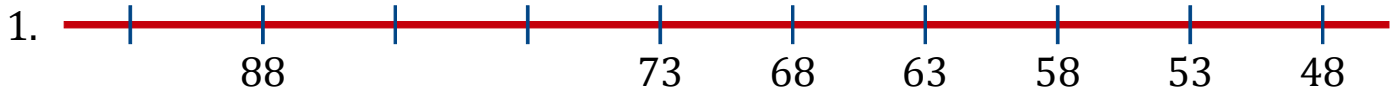


Séquence de Nombres Linéaires (B)

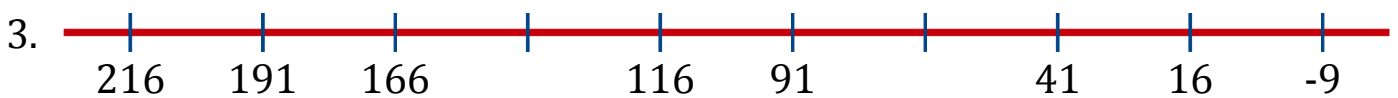
Remplissez les nombres qui manquent de chaque nombre linéaire.



Différence commune: _____



Différence commune: _____



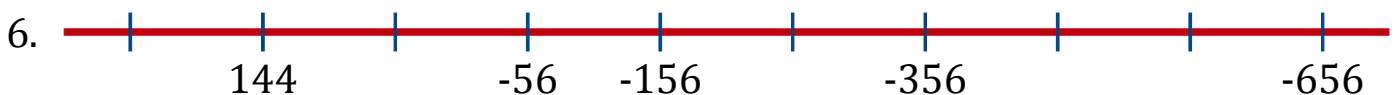
Différence commune: _____



Différence commune: _____



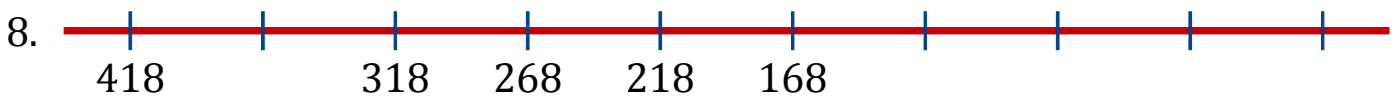
Différence commune: _____



Différence commune: _____



Différence commune: _____



Différence commune: _____