

Séquence de Nombres Linéaires (I)

Remplissez les nombres qui manquent de chaque nombre linéaire.



Différence commune: _____



Différence commune: _____



Différence commune: _____



Différence commune: _____



Différence commune: _____



Différence commune: _____




Différence commune: _____





Différence commune: _____


Séquence de Nombres Linéaires (I) Réponses


Remplissez les nombres qui manquent de chaque nombre linéaire.


1. 
1147 1137 1127 1117 1107 1097 1087 1077 1067 1057
Différence commune: -10


2. 
9618 9613 9608 9603 9598 9593 9588 9583 9578 9573
Différence commune: -5


3. 
7616 7606 7596 7586 7576 7566 7556 7546 7536 7526
Différence commune: -10

4. 
8518 8493 8468 8443 8418 8393 8368 8343 8318 8293
Différence commune: -25

5. 
4373 4323 4273 4223 4173 4123 4073 4023 3973 3923
Différence commune: -50

6. 
1179 1129 1079 1029 979 929 879 829 779 729
Différence commune: -50

7. 
6089 6064 6039 6014 5989 5964 5939 5914 5889 5864
Différence commune: -25

8. 
9351 9301 9251 9201 9151 9101 9051 9001 8951 8901
Différence commune: -50