


# Séquence de Nombres Linéaires (F)

Remplissez les nombres qui manquent de chaque nombre linéaire.



Différence commune: \_\_\_\_\_



Différence commune: \_\_\_\_\_



Différence commune: \_\_\_\_\_



Différence commune: \_\_\_\_\_



Différence commune: \_\_\_\_\_



Différence commune: \_\_\_\_\_




Différence commune: \_\_\_\_\_





Différence commune: \_\_\_\_\_

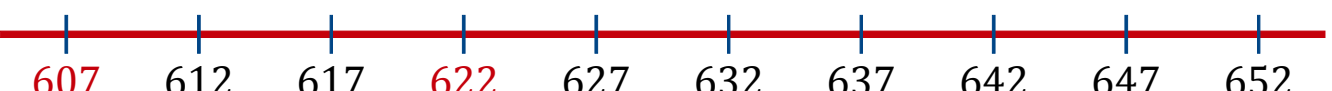
# Séquence de Nombres Linéaires (F) Réponses


Remplissez les nombres qui manquent de chaque nombre linéaire.


1.   
Différence commune: 25


2.   
Différence commune: 75


3.   
Différence commune: 75

4.   
Différence commune: 5

5.   
Différence commune: 50

6.   
Différence commune: 25

7.   
Différence commune: 50

8.   
Différence commune: 75