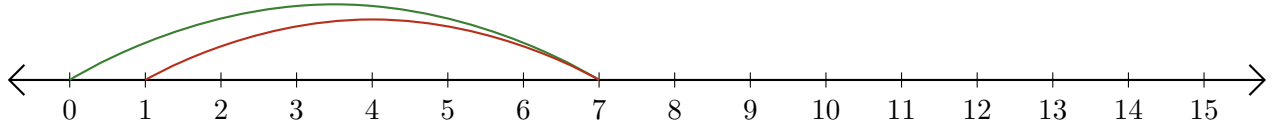


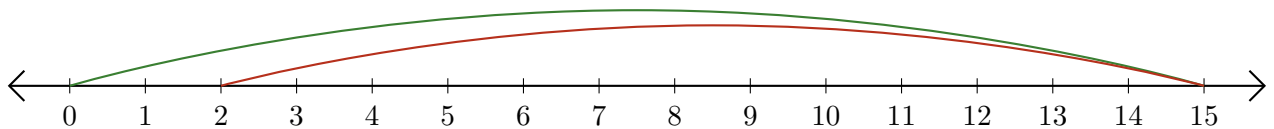
# Lecture de Nombres sur une Droite Graduée (D)

Déterminez les termes et la différence (résultat) représentés sur chaque droite graduée.

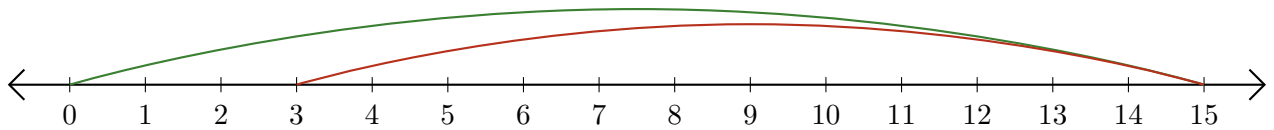
1.  $\underline{\quad} - \underline{\quad} = \underline{\quad}$



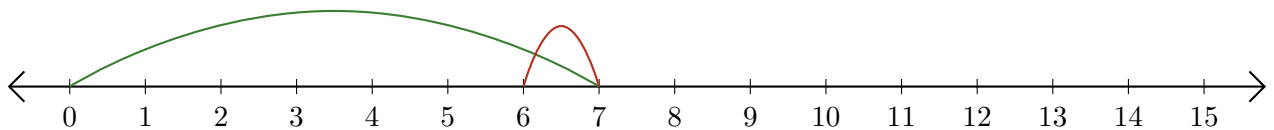
2.  $\underline{\quad} - \underline{\quad} = \underline{\quad}$



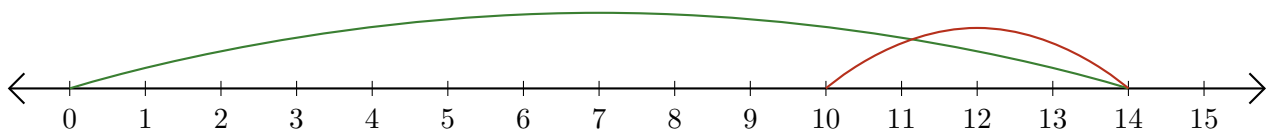
3.  $\underline{\quad} - \underline{\quad} = \underline{\quad}$



4.  $\underline{\quad} - \underline{\quad} = \underline{\quad}$



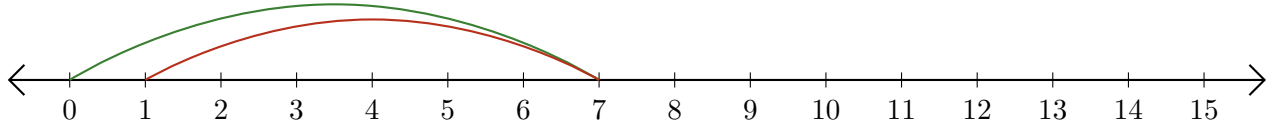
5.  $\underline{\quad} - \underline{\quad} = \underline{\quad}$



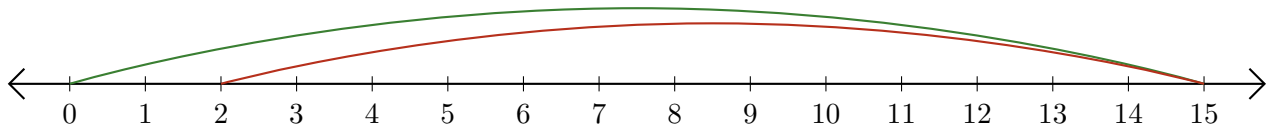
# Lecture de Nombres sur une Droite Graduée (D) Réponses

Déterminez les termes et la différence (résultat) représentés sur chaque droite graduée.

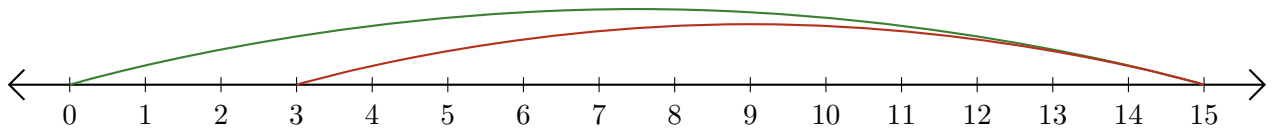
1.  $\underline{7} - \underline{6} = \underline{1}$



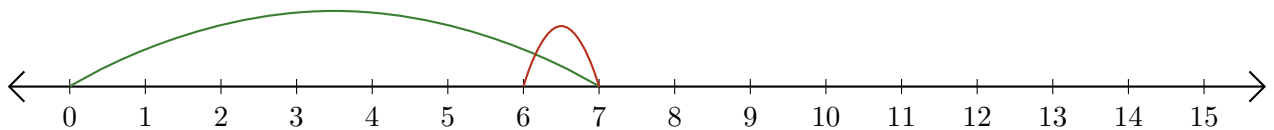
2.  $\underline{15} - \underline{13} = \underline{2}$



3.  $\underline{15} - \underline{12} = \underline{3}$



4.  $\underline{7} - \underline{1} = \underline{6}$



5.  $\underline{14} - \underline{4} = \underline{10}$

