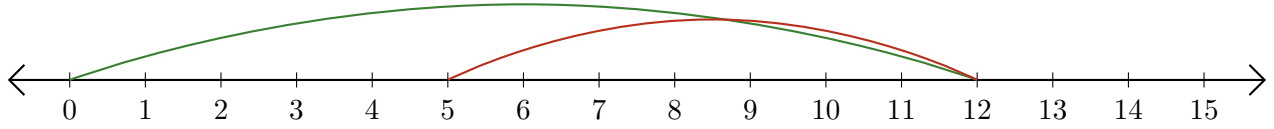


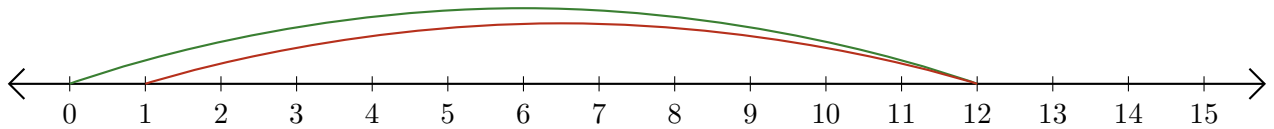
# Lecture de Nombres sur une Droite Graduée (C)

Déterminez les termes et la différence (résultat) représentés sur chaque droite graduée.

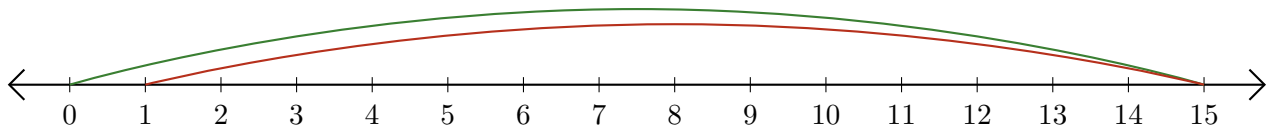
1.  $\underline{\quad} - \underline{\quad} = \underline{\quad}$



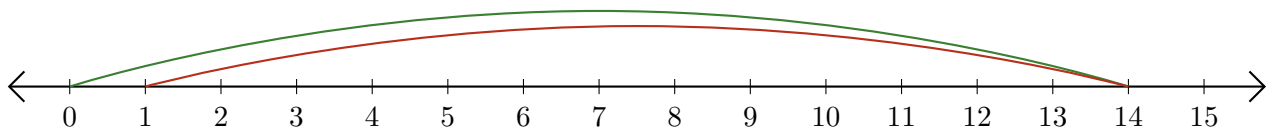
2.  $\underline{\quad} - \underline{\quad} = \underline{\quad}$



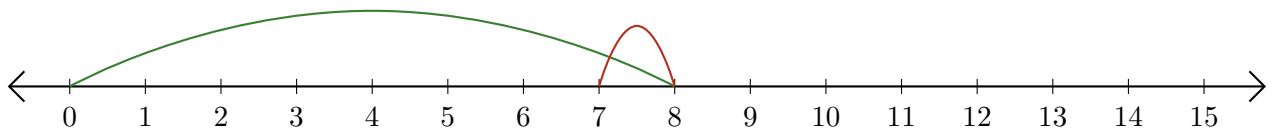
3.  $\underline{\quad} - \underline{\quad} = \underline{\quad}$



4.  $\underline{\quad} - \underline{\quad} = \underline{\quad}$



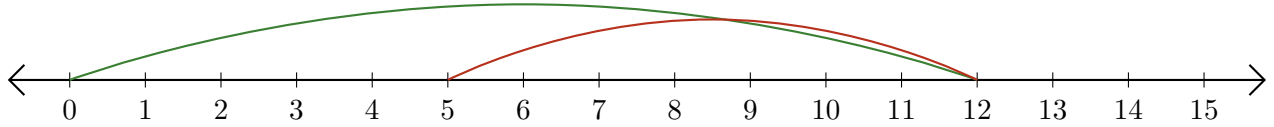
5.  $\underline{\quad} - \underline{\quad} = \underline{\quad}$



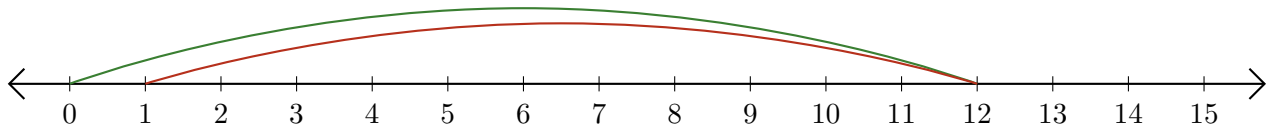
# Lecture de Nombres sur une Droite Graduée (C) Réponses

Déterminez les termes et la différence (résultat) représentés sur chaque droite graduée.

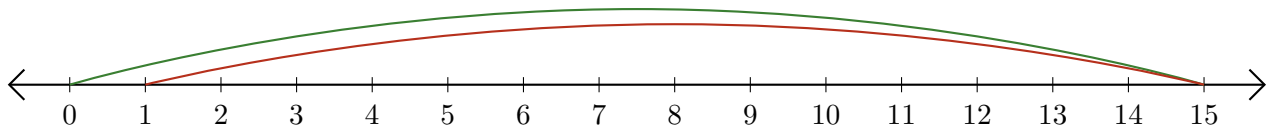
1.  $\underline{12} - \underline{7} = \underline{5}$



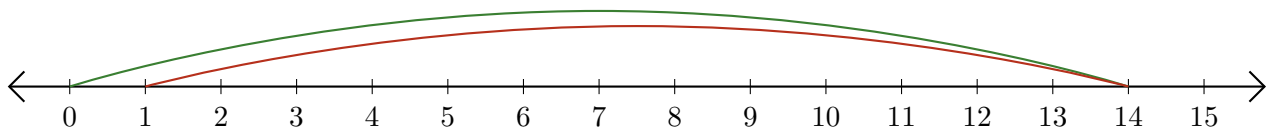
2.  $\underline{12} - \underline{11} = \underline{1}$



3.  $\underline{15} - \underline{14} = \underline{1}$



4.  $\underline{14} - \underline{13} = \underline{1}$



5.  $\underline{8} - \underline{1} = \underline{7}$

