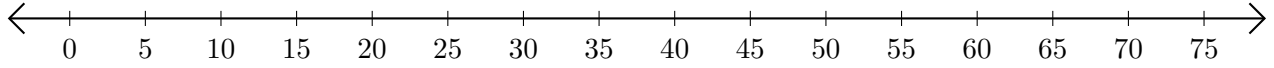


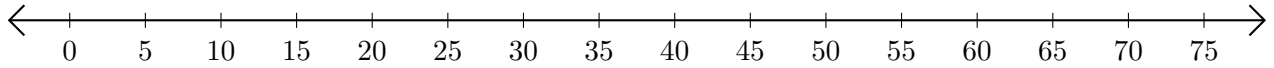
# Opérations sur Une Droite Graduée (D)

Utilisez la droite graduée pour calculer chaque somme ou différence.

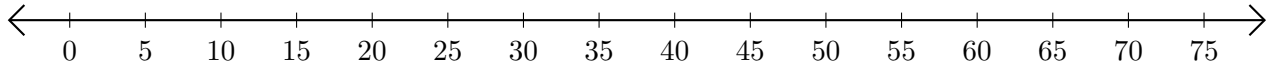
1.  $50 + 10 = \underline{\quad}$



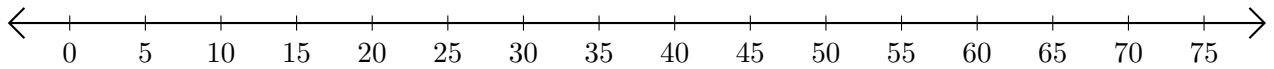
2.  $75 - 70 = \underline{\quad}$



3.  $65 + 10 = \underline{\quad}$



4.  $60 - 10 = \underline{\quad}$



5.  $60 + 5 = \underline{\quad}$

