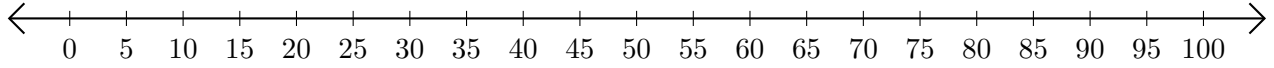


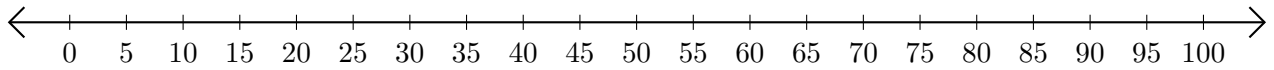
Opérations sur Une Droite Graduée (A)

Utilisez la droite graduée pour calculer chaque somme ou différence.

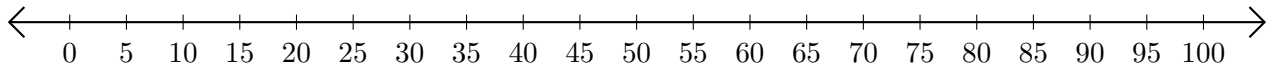
1. $20 + 45 = \underline{\quad}$



2. $60 - 35 = \underline{\quad}$



3. $30 + 40 = \underline{\quad}$



4. $100 - 95 = \underline{\quad}$



5. $50 - 45 = \underline{\quad}$

