

# Pourcentage d'Augmentation/Diminution (D)

Nom: \_\_\_\_\_

Date: \_\_\_\_\_

Calculez le pourcentage d'augmentation ou de diminution.





















	Valeur de départ		Valeur d'arrivée	Augmentation/ Diminution	Variation en pourcentage
1.	\$390	→	\$585	↑ ↓	
-----					
2.	\$116	→	\$87	↑ ↓	
-----					
3.	\$232	→	\$58	↑ ↓	
-----					
4.	\$780	→	\$585	↑ ↓	
-----					
5.	\$548	→	\$137	↑ ↓	
-----					
6.	\$804	→	\$1407	↑ ↓	
-----					
7.	\$564	→	\$423	↑ ↓	
-----					
8.	\$436	→	\$545	↑ ↓	
-----					
9.	\$808	→	\$1414	↑ ↓	
-----					
10.	\$214	→	\$321	↑ ↓	
-----					

# Pourcentage d'Augmentation/Diminution (D) Réponses

Nom: \_\_\_\_\_

Date: \_\_\_\_\_

Calculez le pourcentage d'augmentation ou de diminution.

	Valeur de départ		Valeur d'arrivée	Augmentation/ Diminution	Variation en pourcentage
1.	\$390	→	\$585	 	$\frac{585-390}{390} = 50\%$
2.	\$116	→	\$87	 	$\frac{87-116}{116} = -25\%$
3.	\$232	→	\$58	 	$\frac{58-232}{232} = -75\%$
4.	\$780	→	\$585	 	$\frac{585-780}{780} = -25\%$
5.	\$548	→	\$137	 	$\frac{137-548}{548} = -75\%$
6.	\$804	→	\$1407	 	$\frac{1407-804}{804} = 75\%$
7.	\$564	→	\$423	 	$\frac{423-564}{564} = -25\%$
8.	\$436	→	\$545	 	$\frac{545-436}{436} = 25\%$
9.	\$808	→	\$1414	 	$\frac{1414-808}{808} = 75\%$
10.	\$214	→	\$321	 	$\frac{321-214}{214} = 50\%$