




Œufs de Pâques dans le Panier (I)


Mettez les œufs de Pâques qui ont des sommes supérieures à 198 dans le panier.



$$\begin{array}{r} 39 \\ + 147 \\ \hline \end{array}$$



$$\begin{array}{r} 147 \\ + 125 \\ \hline \end{array}$$



$$\begin{array}{r} 50 \\ + 121 \\ \hline \end{array}$$



$$\begin{array}{r} 70 \\ + 165 \\ \hline \end{array}$$



$$\begin{array}{r} 85 \\ + 171 \\ \hline \end{array}$$


$$\begin{array}{r} 128 \\ + 126 \\ \hline \end{array}$$



$$\begin{array}{r} 49 \\ + 49 \\ \hline \end{array}$$



$$\begin{array}{r} 85 \\ + 198 \\ \hline \end{array}$$



$$\begin{array}{r} 197 \\ + 125 \\ \hline \end{array}$$


$$\begin{array}{r} 63 \\ + 121 \\ \hline \end{array}$$



$$\begin{array}{r} 183 \\ + 94 \\ \hline \end{array}$$



$$\begin{array}{r} 23 \\ + 148 \\ \hline \end{array}$$



$$\begin{array}{r} 185 \\ + 49 \\ \hline \end{array}$$



$$\begin{array}{r} 79 \\ + 162 \\ \hline \end{array}$$


$$\begin{array}{r} 61 \\ + 150 \\ \hline \end{array}$$


$$\begin{array}{r} 95 \\ + 178 \\ \hline \end{array}$$


$$\begin{array}{r} 12 \\ + 62 \\ \hline \end{array}$$


$$\begin{array}{r} 161 \\ + 106 \\ \hline \end{array}$$


$$\begin{array}{r} 34 \\ + 34 \\ \hline \end{array}$$


$$\begin{array}{r} 90 \\ + 80 \\ \hline \end{array}$$



Combien d'œufs de Pâques iront dans ce panier?

Joyeuses Pâques de la part de Mathslibres.com!