





# Œufs de Pâques dans le Panier (E)


Mettez les œufs de Pâques qui ont des sommes supérieures à 198 dans le panier.



$$\begin{array}{r} 102 \\ + 192 \\ \hline \end{array}$$



$$\begin{array}{r} 27 \\ + 129 \\ \hline \end{array}$$



$$\begin{array}{r} 137 \\ + 40 \\ \hline \end{array}$$



$$\begin{array}{r} 32 \\ + 186 \\ \hline \end{array}$$


$$\begin{array}{r} 130 \\ + 105 \\ \hline \end{array}$$



$$\begin{array}{r} 176 \\ + 118 \\ \hline \end{array}$$



$$\begin{array}{r} 55 \\ + 185 \\ \hline \end{array}$$



$$\begin{array}{r} 122 \\ + 68 \\ \hline \end{array}$$


$$\begin{array}{r} 184 \\ + 17 \\ \hline \end{array}$$


$$\begin{array}{r} 191 \\ + 156 \\ \hline \end{array}$$



$$\begin{array}{r} 158 \\ + 86 \\ \hline \end{array}$$



$$\begin{array}{r} 24 \\ + 193 \\ \hline \end{array}$$


$$\begin{array}{r} 92 \\ + 75 \\ \hline \end{array}$$


$$\begin{array}{r} 180 \\ + 84 \\ \hline \end{array}$$


$$\begin{array}{r} 2 \\ + 34 \\ \hline \end{array}$$


$$\begin{array}{r} 35 \\ + 73 \\ \hline \end{array}$$


$$\begin{array}{r} 160 \\ + 185 \\ \hline \end{array}$$


$$\begin{array}{r} 40 \\ + 63 \\ \hline \end{array}$$


$$\begin{array}{r} 186 \\ + 55 \\ \hline \end{array}$$


$$\begin{array}{r} 138 \\ + 65 \\ \hline \end{array}$$



Combien d'œufs de Pâques iront dans ce panier?

Joyeuses Pâques de la part de Mathslibres.com!