



Œufs de Pâques dans le Panier (D)


Mettez les œufs de Pâques qui ont des sommes supérieures à 198 dans le panier.



$$\begin{array}{r} 61 \\ + 196 \\ \hline \end{array}$$



$$\begin{array}{r} 63 \\ + 82 \\ \hline \end{array}$$



$$\begin{array}{r} 181 \\ + 134 \\ \hline \end{array}$$



$$\begin{array}{r} 142 \\ + 91 \\ \hline \end{array}$$



$$\begin{array}{r} 131 \\ + 71 \\ \hline \end{array}$$



$$\begin{array}{r} 120 \\ + 15 \\ \hline \end{array}$$



$$\begin{array}{r} 99 \\ + 107 \\ \hline \end{array}$$


$$\begin{array}{r} 10 \\ + 195 \\ \hline \end{array}$$



$$\begin{array}{r} 148 \\ + 192 \\ \hline \end{array}$$


$$\begin{array}{r} 184 \\ + 3 \\ \hline \end{array}$$



$$\begin{array}{r} 114 \\ + 48 \\ \hline \end{array}$$



$$\begin{array}{r} 42 \\ + 49 \\ \hline \end{array}$$



$$\begin{array}{r} 121 \\ + 117 \\ \hline \end{array}$$



$$\begin{array}{r} 45 \\ + 79 \\ \hline \end{array}$$



$$\begin{array}{r} 39 \\ + 135 \\ \hline \end{array}$$


$$\begin{array}{r} 80 \\ + 127 \\ \hline \end{array}$$


$$\begin{array}{r} 92 \\ + 51 \\ \hline \end{array}$$


$$\begin{array}{r} 32 \\ + 157 \\ \hline \end{array}$$


$$\begin{array}{r} 197 \\ + 121 \\ \hline \end{array}$$


$$\begin{array}{r} 124 \\ + 144 \\ \hline \end{array}$$



Combien d'œufs de Pâques iront dans ce panier?

Joyeuses Pâques de la part de Mathslibres.com!