




Œufs de Pâques dans le Panier (C)


Mettez les œufs de Pâques qui ont des sommes supérieures à 198 dans le panier.



$$\begin{array}{r} 181 \\ + 145 \\ \hline \end{array}$$



$$\begin{array}{r} 53 \\ + 189 \\ \hline \end{array}$$



$$\begin{array}{r} 178 \\ + 27 \\ \hline \end{array}$$



$$\begin{array}{r} 186 \\ + 142 \\ \hline \end{array}$$


$$\begin{array}{r} 77 \\ + 193 \\ \hline \end{array}$$



$$\begin{array}{r} 108 \\ + 111 \\ \hline \end{array}$$


$$\begin{array}{r} 71 \\ + 68 \\ \hline \end{array}$$



$$\begin{array}{r} 52 \\ + 99 \\ \hline \end{array}$$



$$\begin{array}{r} 50 \\ + 101 \\ \hline \end{array}$$


$$\begin{array}{r} 75 \\ + 109 \\ \hline \end{array}$$



$$\begin{array}{r} 41 \\ + 75 \\ \hline \end{array}$$



$$\begin{array}{r} 100 \\ + 9 \\ \hline \end{array}$$



$$\begin{array}{r} 88 \\ + 61 \\ \hline \end{array}$$



$$\begin{array}{r} 143 \\ + 144 \\ \hline \end{array}$$


$$\begin{array}{r} 64 \\ + 66 \\ \hline \end{array}$$


$$\begin{array}{r} 191 \\ + 29 \\ \hline \end{array}$$


$$\begin{array}{r} 11 \\ + 85 \\ \hline \end{array}$$


$$\begin{array}{r} 100 \\ + 165 \\ \hline \end{array}$$


$$\begin{array}{r} 133 \\ + 33 \\ \hline \end{array}$$


$$\begin{array}{r} 170 \\ + 32 \\ \hline \end{array}$$



Combien d'œufs de Pâques iront dans ce panier?

Joyeuses Pâques de la part de Mathslibres.com!