



Œufs de Pâques dans le Panier (J)


Mettez les œufs de Pâques qui ont des sommes supérieures à 98 dans le panier.



$$\begin{array}{r} 81 \\ + 57 \\ \hline \end{array}$$



$$\begin{array}{r} 98 \\ + 5 \\ \hline \end{array}$$



$$\begin{array}{r} 39 \\ + 78 \\ \hline \end{array}$$



$$\begin{array}{r} 26 \\ + 34 \\ \hline \end{array}$$


$$\begin{array}{r} 62 \\ + 14 \\ \hline \end{array}$$


$$\begin{array}{r} 65 \\ + 97 \\ \hline \end{array}$$



$$\begin{array}{r} 13 \\ + 34 \\ \hline \end{array}$$



$$\begin{array}{r} 78 \\ + 48 \\ \hline \end{array}$$



$$\begin{array}{r} 42 \\ + 83 \\ \hline \end{array}$$


$$\begin{array}{r} 53 \\ + 67 \\ \hline \end{array}$$



$$\begin{array}{r} 24 \\ + 86 \\ \hline \end{array}$$



$$\begin{array}{r} 59 \\ + 55 \\ \hline \end{array}$$



$$\begin{array}{r} 24 \\ + 65 \\ \hline \end{array}$$



$$\begin{array}{r} 22 \\ + 17 \\ \hline \end{array}$$


$$\begin{array}{r} 5 \\ + 46 \\ \hline \end{array}$$


$$\begin{array}{r} 23 \\ + 23 \\ \hline \end{array}$$


$$\begin{array}{r} 59 \\ + 79 \\ \hline \end{array}$$


$$\begin{array}{r} 55 \\ + 46 \\ \hline \end{array}$$


$$\begin{array}{r} 59 \\ + 32 \\ \hline \end{array}$$


$$\begin{array}{r} 25 \\ + 5 \\ \hline \end{array}$$





Combien d'œufs de Pâques iront dans ce panier?

Joyeuses Pâques de la part de Mathslibres.com!


Œufs de Pâques dans le Panier (J) Réponses


Mettez les œufs de Pâques qui ont des sommes supérieures à 98 dans le panier.



$$\begin{array}{r} 81 \\ + 57 \\ \hline 138 \end{array}$$


$$\begin{array}{r} 98 \\ + 5 \\ \hline 103 \end{array}$$



$$\begin{array}{r} 39 \\ + 78 \\ \hline 117 \end{array}$$


$$\begin{array}{r} 26 \\ + 34 \\ \hline 60 \end{array}$$



$$\begin{array}{r} 62 \\ + 14 \\ \hline 76 \end{array}$$



$$\begin{array}{r} 65 \\ + 97 \\ \hline 162 \end{array}$$



$$\begin{array}{r} 13 \\ + 34 \\ \hline 47 \end{array}$$



$$\begin{array}{r} 78 \\ + 48 \\ \hline 126 \end{array}$$



$$\begin{array}{r} 42 \\ + 83 \\ \hline 125 \end{array}$$



$$\begin{array}{r} 53 \\ + 67 \\ \hline 120 \end{array}$$



$$\begin{array}{r} 24 \\ + 86 \\ \hline 110 \end{array}$$



$$\begin{array}{r} 59 \\ + 55 \\ \hline 114 \end{array}$$



$$\begin{array}{r} 24 \\ + 65 \\ \hline 89 \end{array}$$



$$\begin{array}{r} 22 \\ + 17 \\ \hline 39 \end{array}$$



$$\begin{array}{r} 5 \\ + 46 \\ \hline 51 \end{array}$$


$$\begin{array}{r} 23 \\ + 23 \\ \hline 46 \end{array}$$


$$\begin{array}{r} 59 \\ + 79 \\ \hline 138 \end{array}$$


$$\begin{array}{r} 55 \\ + 46 \\ \hline 101 \end{array}$$


$$\begin{array}{r} 59 \\ + 32 \\ \hline 91 \end{array}$$


$$\begin{array}{r} 25 \\ + 5 \\ \hline 30 \end{array}$$



Combien d'œufs de Pâques iront dans ce panier?

11