



Œufs de Pâques dans le Panier (I)


Mettez les œufs de Pâques qui ont des sommes supérieures à 98 dans le panier.



$$\begin{array}{r} 35 \\ + 95 \\ \hline \end{array}$$


$$\begin{array}{r} 12 \\ + 73 \\ \hline \end{array}$$



$$\begin{array}{r} 53 \\ + 1 \\ \hline \end{array}$$



$$\begin{array}{r} 47 \\ + 17 \\ \hline \end{array}$$


$$\begin{array}{r} 52 \\ + 97 \\ \hline \end{array}$$


$$\begin{array}{r} 52 \\ + 92 \\ \hline \end{array}$$



$$\begin{array}{r} 81 \\ + 46 \\ \hline \end{array}$$



$$\begin{array}{r} 22 \\ + 52 \\ \hline \end{array}$$


$$\begin{array}{r} 68 \\ + 89 \\ \hline \end{array}$$


$$\begin{array}{r} 4 \\ + 88 \\ \hline \end{array}$$



$$\begin{array}{r} 61 \\ + 55 \\ \hline \end{array}$$



$$\begin{array}{r} 80 \\ + 21 \\ \hline \end{array}$$



$$\begin{array}{r} 30 \\ + 83 \\ \hline \end{array}$$



$$\begin{array}{r} 53 \\ + 48 \\ \hline \end{array}$$


$$\begin{array}{r} 56 \\ + 55 \\ \hline \end{array}$$


$$\begin{array}{r} 5 \\ + 30 \\ \hline \end{array}$$


$$\begin{array}{r} 34 \\ + 73 \\ \hline \end{array}$$


$$\begin{array}{r} 47 \\ + 22 \\ \hline \end{array}$$


$$\begin{array}{r} 56 \\ + 83 \\ \hline \end{array}$$


$$\begin{array}{r} 79 \\ + 36 \\ \hline \end{array}$$



Combien d'œufs de Pâques iront dans ce panier?

Joyeuses Pâques de la part de Mathslibres.com!