



Œufs de Pâques dans le Panier (G)

Mettez les œufs de Pâques qui ont des sommes supérieures à 98 dans le panier.



$$\begin{array}{r} 39 \\ + 19 \\ \hline \end{array}$$



$$\begin{array}{r} 52 \\ + 90 \\ \hline \end{array}$$



$$\begin{array}{r} 81 \\ + 7 \\ \hline \end{array}$$



$$\begin{array}{r} 81 \\ + 92 \\ \hline \end{array}$$


$$\begin{array}{r} 56 \\ + 96 \\ \hline \end{array}$$



$$\begin{array}{r} 53 \\ + 69 \\ \hline \end{array}$$



$$\begin{array}{r} 32 \\ + 54 \\ \hline \end{array}$$



$$\begin{array}{r} 61 \\ + 96 \\ \hline \end{array}$$


$$\begin{array}{r} 23 \\ + 9 \\ \hline \end{array}$$



$$\begin{array}{r} 88 \\ + 5 \\ \hline \end{array}$$



$$\begin{array}{r} 32 \\ + 62 \\ \hline \end{array}$$


$$\begin{array}{r} 31 \\ + 49 \\ \hline \end{array}$$



$$\begin{array}{r} 39 \\ + 83 \\ \hline \end{array}$$



$$\begin{array}{r} 8 \\ + 89 \\ \hline \end{array}$$



$$\begin{array}{r} 2 \\ + 14 \\ \hline \end{array}$$


$$\begin{array}{r} 47 \\ + 33 \\ \hline \end{array}$$


$$\begin{array}{r} 85 \\ + 83 \\ \hline \end{array}$$


$$\begin{array}{r} 35 \\ + 40 \\ \hline \end{array}$$


$$\begin{array}{r} 25 \\ + 12 \\ \hline \end{array}$$


$$\begin{array}{r} 72 \\ + 43 \\ \hline \end{array}$$



Combien d'œufs de Pâques iront dans ce panier?

Joyeuses Pâques de la part de Mathslibres.com!