




# Œufs de Pâques dans le Panier (D)


Mettez les œufs de Pâques qui ont des sommes supérieures à 98 dans le panier.



$$\begin{array}{r} 75 \\ + 79 \\ \hline \end{array}$$


$$\begin{array}{r} 67 \\ + 54 \\ \hline \end{array}$$



$$\begin{array}{r} 85 \\ + 85 \\ \hline \end{array}$$



$$\begin{array}{r} 19 \\ + 17 \\ \hline \end{array}$$


$$\begin{array}{r} 81 \\ + 42 \\ \hline \end{array}$$



$$\begin{array}{r} 69 \\ + 48 \\ \hline \end{array}$$



$$\begin{array}{r} 52 \\ + 98 \\ \hline \end{array}$$



$$\begin{array}{r} 36 \\ + 32 \\ \hline \end{array}$$


$$\begin{array}{r} 53 \\ + 52 \\ \hline \end{array}$$


$$\begin{array}{r} 68 \\ + 57 \\ \hline \end{array}$$



$$\begin{array}{r} 28 \\ + 57 \\ \hline \end{array}$$



$$\begin{array}{r} 57 \\ + 16 \\ \hline \end{array}$$



$$\begin{array}{r} 10 \\ + 48 \\ \hline \end{array}$$


$$\begin{array}{r} 83 \\ + 56 \\ \hline \end{array}$$


$$\begin{array}{r} 5 \\ + 84 \\ \hline \end{array}$$


$$\begin{array}{r} 23 \\ + 69 \\ \hline \end{array}$$


$$\begin{array}{r} 80 \\ + 64 \\ \hline \end{array}$$


$$\begin{array}{r} 75 \\ + 49 \\ \hline \end{array}$$


$$\begin{array}{r} 86 \\ + 34 \\ \hline \end{array}$$


$$\begin{array}{r} 10 \\ + 37 \\ \hline \end{array}$$



Combien d'œufs de Pâques iront dans ce panier?

Joyeuses Pâques de la part de Mathslibres.com!