




Œufs de Pâques dans le Panier (D)

Mettez les œufs de Pâques qui ont des sommes supérieures à 98 dans le panier.



$$\begin{array}{r} 75 \\ + 79 \\ \hline \end{array}$$


$$\begin{array}{r} 67 \\ + 54 \\ \hline \end{array}$$



$$\begin{array}{r} 85 \\ + 85 \\ \hline \end{array}$$



$$\begin{array}{r} 19 \\ + 17 \\ \hline \end{array}$$


$$\begin{array}{r} 81 \\ + 42 \\ \hline \end{array}$$



$$\begin{array}{r} 69 \\ + 48 \\ \hline \end{array}$$



$$\begin{array}{r} 52 \\ + 98 \\ \hline \end{array}$$



$$\begin{array}{r} 36 \\ + 32 \\ \hline \end{array}$$


$$\begin{array}{r} 53 \\ + 52 \\ \hline \end{array}$$


$$\begin{array}{r} 68 \\ + 57 \\ \hline \end{array}$$



$$\begin{array}{r} 28 \\ + 57 \\ \hline \end{array}$$



$$\begin{array}{r} 57 \\ + 16 \\ \hline \end{array}$$



$$\begin{array}{r} 10 \\ + 48 \\ \hline \end{array}$$



$$\begin{array}{r} 83 \\ + 56 \\ \hline \end{array}$$


$$\begin{array}{r} 5 \\ + 84 \\ \hline \end{array}$$


$$\begin{array}{r} 23 \\ + 69 \\ \hline \end{array}$$


$$\begin{array}{r} 80 \\ + 64 \\ \hline \end{array}$$


$$\begin{array}{r} 75 \\ + 49 \\ \hline \end{array}$$


$$\begin{array}{r} 86 \\ + 34 \\ \hline \end{array}$$


$$\begin{array}{r} 10 \\ + 37 \\ \hline \end{array}$$




Combien d'œufs de Pâques iront dans ce panier?


Joyeuses Pâques de la part de Mathslibres.com!


Œufs de Pâques dans le Panier (D) Réponses


Mettez les œufs de Pâques qui ont des sommes supérieures à 98 dans le panier.


$$\begin{array}{r} 75 \\ + 79 \\ \hline 154 \end{array}$$



$$\begin{array}{r} 67 \\ + 54 \\ \hline 121 \end{array}$$



$$\begin{array}{r} 85 \\ + 85 \\ \hline 170 \end{array}$$



$$\begin{array}{r} 19 \\ + 17 \\ \hline 36 \end{array}$$



$$\begin{array}{r} 81 \\ + 42 \\ \hline 123 \end{array}$$



$$\begin{array}{r} 69 \\ + 48 \\ \hline 117 \end{array}$$



$$\begin{array}{r} 52 \\ + 98 \\ \hline 150 \end{array}$$



$$\begin{array}{r} 36 \\ + 32 \\ \hline 68 \end{array}$$



$$\begin{array}{r} 53 \\ + 52 \\ \hline 105 \end{array}$$



$$\begin{array}{r} 68 \\ + 57 \\ \hline 125 \end{array}$$



$$\begin{array}{r} 28 \\ + 57 \\ \hline 85 \end{array}$$


$$\begin{array}{r} 57 \\ + 16 \\ \hline 73 \end{array}$$



$$\begin{array}{r} 10 \\ + 48 \\ \hline 58 \end{array}$$


$$\begin{array}{r} 83 \\ + 56 \\ \hline 139 \end{array}$$



$$\begin{array}{r} 5 \\ + 84 \\ \hline 89 \end{array}$$


$$\begin{array}{r} 23 \\ + 69 \\ \hline 92 \end{array}$$


$$\begin{array}{r} 80 \\ + 64 \\ \hline 144 \end{array}$$


$$\begin{array}{r} 75 \\ + 49 \\ \hline 124 \end{array}$$


$$\begin{array}{r} 86 \\ + 34 \\ \hline 120 \end{array}$$


$$\begin{array}{r} 10 \\ + 37 \\ \hline 47 \end{array}$$



Combien d'œufs de Pâques iront dans ce panier?

12

Joyeuses Pâques de la part de Mathslibres.com!