




# Œufs de Pâques dans le Panier (C)

Mettez les œufs de Pâques qui ont des sommes supérieures à 98 dans le panier.



$$\begin{array}{r} 43 \\ + 67 \\ \hline \end{array}$$


$$\begin{array}{r} 55 \\ + 19 \\ \hline \end{array}$$



$$\begin{array}{r} 91 \\ + 75 \\ \hline \end{array}$$



$$\begin{array}{r} 95 \\ + 6 \\ \hline \end{array}$$


$$\begin{array}{r} 92 \\ + 58 \\ \hline \end{array}$$



$$\begin{array}{r} 95 \\ + 18 \\ \hline \end{array}$$



$$\begin{array}{r} 76 \\ + 92 \\ \hline \end{array}$$



$$\begin{array}{r} 59 \\ + 39 \\ \hline \end{array}$$


$$\begin{array}{r} 64 \\ + 74 \\ \hline \end{array}$$



$$\begin{array}{r} 56 \\ + 25 \\ \hline \end{array}$$


$$\begin{array}{r} 12 \\ + 6 \\ \hline \end{array}$$



$$\begin{array}{r} 57 \\ + 70 \\ \hline \end{array}$$



$$\begin{array}{r} 4 \\ + 89 \\ \hline \end{array}$$



$$\begin{array}{r} 50 \\ + 8 \\ \hline \end{array}$$


$$\begin{array}{r} 93 \\ + 29 \\ \hline \end{array}$$


$$\begin{array}{r} 70 \\ + 52 \\ \hline \end{array}$$


$$\begin{array}{r} 59 \\ + 97 \\ \hline \end{array}$$


$$\begin{array}{r} 34 \\ + 67 \\ \hline \end{array}$$


$$\begin{array}{r} 40 \\ + 31 \\ \hline \end{array}$$


$$\begin{array}{r} 20 \\ + 73 \\ \hline \end{array}$$



Combien d'œufs de Pâques iront dans ce panier?

Joyeuses Pâques de la part de Mathslibres.com!