




Œufs de Pâques dans le Panier (C)

Mettez les œufs de Pâques qui ont des sommes supérieures à 98 dans le panier.



$$\begin{array}{r} 43 \\ + 67 \\ \hline \end{array}$$


$$\begin{array}{r} 55 \\ + 19 \\ \hline \end{array}$$



$$\begin{array}{r} 91 \\ + 75 \\ \hline \end{array}$$



$$\begin{array}{r} 95 \\ + 6 \\ \hline \end{array}$$


$$\begin{array}{r} 92 \\ + 58 \\ \hline \end{array}$$



$$\begin{array}{r} 95 \\ + 18 \\ \hline \end{array}$$



$$\begin{array}{r} 76 \\ + 92 \\ \hline \end{array}$$



$$\begin{array}{r} 59 \\ + 39 \\ \hline \end{array}$$


$$\begin{array}{r} 64 \\ + 74 \\ \hline \end{array}$$



$$\begin{array}{r} 56 \\ + 25 \\ \hline \end{array}$$


$$\begin{array}{r} 12 \\ + 6 \\ \hline \end{array}$$



$$\begin{array}{r} 57 \\ + 70 \\ \hline \end{array}$$



$$\begin{array}{r} 4 \\ + 89 \\ \hline \end{array}$$



$$\begin{array}{r} 50 \\ + 8 \\ \hline \end{array}$$


$$\begin{array}{r} 93 \\ + 29 \\ \hline \end{array}$$


$$\begin{array}{r} 70 \\ + 52 \\ \hline \end{array}$$


$$\begin{array}{r} 59 \\ + 97 \\ \hline \end{array}$$


$$\begin{array}{r} 34 \\ + 67 \\ \hline \end{array}$$


$$\begin{array}{r} 40 \\ + 31 \\ \hline \end{array}$$


$$\begin{array}{r} 20 \\ + 73 \\ \hline \end{array}$$





Combien d'œufs de Pâques iront dans ce panier?

Joyeuses Pâques de la part de Mathslibres.com!


Œufs de Pâques dans le Panier (C) Réponses


Mettez les œufs de Pâques qui ont des sommes supérieures à 98 dans le panier.



$$\begin{array}{r} 43 \\ + 67 \\ \hline 110 \end{array}$$


$$\begin{array}{r} 55 \\ + 19 \\ \hline 74 \end{array}$$



$$\begin{array}{r} 91 \\ + 75 \\ \hline 166 \end{array}$$


$$\begin{array}{r} 95 \\ + 6 \\ \hline 101 \end{array}$$



$$\begin{array}{r} 92 \\ + 58 \\ \hline 150 \end{array}$$



$$\begin{array}{r} 95 \\ + 18 \\ \hline 113 \end{array}$$



$$\begin{array}{r} 76 \\ + 92 \\ \hline 168 \end{array}$$



$$\begin{array}{r} 59 \\ + 39 \\ \hline 98 \end{array}$$



$$\begin{array}{r} 64 \\ + 74 \\ \hline 138 \end{array}$$



$$\begin{array}{r} 56 \\ + 25 \\ \hline 81 \end{array}$$



$$\begin{array}{r} 12 \\ + 6 \\ \hline 18 \end{array}$$



$$\begin{array}{r} 57 \\ + 70 \\ \hline 127 \end{array}$$



$$\begin{array}{r} 4 \\ + 89 \\ \hline 93 \end{array}$$



$$\begin{array}{r} 50 \\ + 8 \\ \hline 58 \end{array}$$



$$\begin{array}{r} 93 \\ + 29 \\ \hline 122 \end{array}$$


$$\begin{array}{r} 70 \\ + 52 \\ \hline 122 \end{array}$$


$$\begin{array}{r} 59 \\ + 97 \\ \hline 156 \end{array}$$


$$\begin{array}{r} 34 \\ + 67 \\ \hline 101 \end{array}$$


$$\begin{array}{r} 40 \\ + 31 \\ \hline 71 \end{array}$$


$$\begin{array}{r} 20 \\ + 73 \\ \hline 93 \end{array}$$



Combien d'œufs de Pâques iront dans ce panier?

12

Joyeuses Pâques de la part de Mathslibres.com!