




Œufs de Pâques dans le Panier (E)


Mettez les œufs de Pâques qui ont des sommes supérieures à 18 dans le panier.



$$\begin{array}{r} 3 \\ + 16 \\ \hline \end{array}$$



$$\begin{array}{r} 16 \\ + 8 \\ \hline \end{array}$$



$$\begin{array}{r} 5 \\ + 7 \\ \hline \end{array}$$



$$\begin{array}{r} 7 \\ + 6 \\ \hline \end{array}$$



$$\begin{array}{r} 10 \\ + 3 \\ \hline \end{array}$$



$$\begin{array}{r} 2 \\ + 18 \\ \hline \end{array}$$



$$\begin{array}{r} 1 \\ + 13 \\ \hline \end{array}$$



$$\begin{array}{r} 15 \\ + 13 \\ \hline \end{array}$$



$$\begin{array}{r} 16 \\ + 6 \\ \hline \end{array}$$



$$\begin{array}{r} 11 \\ + 18 \\ \hline \end{array}$$



$$\begin{array}{r} 1 \\ + 4 \\ \hline \end{array}$$



$$\begin{array}{r} 8 \\ + 15 \\ \hline \end{array}$$



$$\begin{array}{r} 11 \\ + 2 \\ \hline \end{array}$$



$$\begin{array}{r} 2 \\ + 16 \\ \hline \end{array}$$


$$\begin{array}{r} 12 \\ + 5 \\ \hline \end{array}$$


$$\begin{array}{r} 3 \\ + 3 \\ \hline \end{array}$$


$$\begin{array}{r} 13 \\ + 6 \\ \hline \end{array}$$


$$\begin{array}{r} 3 \\ + 9 \\ \hline \end{array}$$


$$\begin{array}{r} 3 \\ + 13 \\ \hline \end{array}$$


$$\begin{array}{r} 9 \\ + 4 \\ \hline \end{array}$$



Combien d'œufs de Pâques iront dans ce panier?

Joyeuses Pâques de la part de Mathslibres.com!