
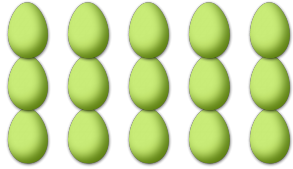




# COMPTAGE DES ŒUX DE PÂQUES (A)

Combien d'œufs de Pâques y a-t-il dans chaque groupe?



1. Il y a \_\_\_\_ œufs de Pâques dans le groupe ci-dessous.      2. Il y a \_\_\_\_ œufs de Pâques dans le groupe ci-dessous.



3. Il y a \_\_\_\_ œufs de Pâques dans le groupe ci-dessous.      4. Il y a \_\_\_\_ œufs de Pâques dans le groupe ci-dessous.




5. Il y a \_\_\_\_ œufs de Pâques dans le groupe ci-dessous.      6. Il y a \_\_\_\_ œufs de Pâques dans le groupe ci-dessous.




# COMPTAGE DES ŒUX DE PÂQUES (A) RÉPONSES

Combien d'œufs de Pâques y a-t-il dans chaque groupe?


1. Il y a 15 œufs de Pâques dans le groupe ci-dessous.




2. Il y a 18 œufs de Pâques dans le groupe ci-dessous.




3. Il y a 16 œufs de Pâques dans le groupe ci-dessous.




4. Il y a 36 œufs de Pâques dans le groupe ci-dessous.



5. Il y a 20 œufs de Pâques dans le groupe ci-dessous.



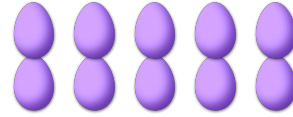

6. Il y a 12 œufs de Pâques dans le groupe ci-dessous.




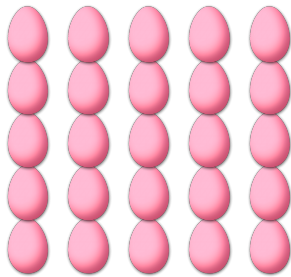
# COMPTAGE DES ŒUX DE PÂQUES (B)

Combien d'œufs de Pâques y a-t-il dans chaque groupe?



1. Il y a \_\_\_\_ œufs de Pâques dans le groupe ci-dessous.      2. Il y a \_\_\_\_ œufs de Pâques dans le groupe ci-dessous.



3. Il y a \_\_\_\_ œufs de Pâques dans le groupe ci-dessous.      4. Il y a \_\_\_\_ œufs de Pâques dans le groupe ci-dessous.




5. Il y a \_\_\_\_ œufs de Pâques dans le groupe ci-dessous.      6. Il y a \_\_\_\_ œufs de Pâques dans le groupe ci-dessous.



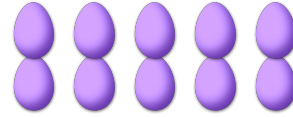
# COMPTAGE DES ŒUX DE PÂQUES (B) RÉPONSES

Combien d'œufs de Pâques y a-t-il dans chaque groupe?

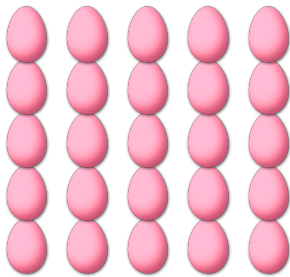
1. Il y a 8 œufs de Pâques dans le groupe ci-dessous.



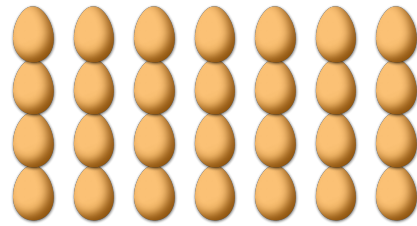
2. Il y a 10 œufs de Pâques dans le groupe ci-dessous.




3. Il y a 25 œufs de Pâques dans le groupe ci-dessous.




4. Il y a 28 œufs de Pâques dans le groupe ci-dessous.



5. Il y a 20 œufs de Pâques dans le groupe ci-dessous.




6. Il y a 30 œufs de Pâques dans le groupe ci-dessous.




# COMPTAGE DES ŒUX DE PÂQUES (C)

Combien d'œufs de Pâques y a-t-il dans chaque groupe?

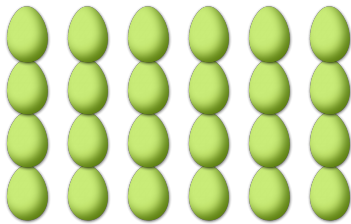
1. Il y a \_\_\_\_ œufs de Pâques dans le groupe ci-dessous.




2. Il y a \_\_\_\_ œufs de Pâques dans le groupe ci-dessous.




3. Il y a \_\_\_\_ œufs de Pâques dans le groupe ci-dessous.



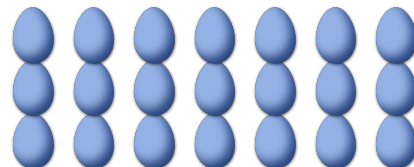
4. Il y a \_\_\_\_ œufs de Pâques dans le groupe ci-dessous.



5. Il y a \_\_\_\_ œufs de Pâques dans le groupe ci-dessous.




6. Il y a \_\_\_\_ œufs de Pâques dans le groupe ci-dessous.




# COMPTAGE DES ŒUX DE PÂQUES (C) RÉPONSES

Combien d'œufs de Pâques y a-t-il dans chaque groupe?

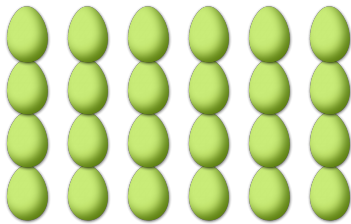
1. Il y a 35 œufs de Pâques dans le groupe ci-dessous.




2. Il y a 36 œufs de Pâques dans le groupe ci-dessous.




3. Il y a 24 œufs de Pâques dans le groupe ci-dessous.



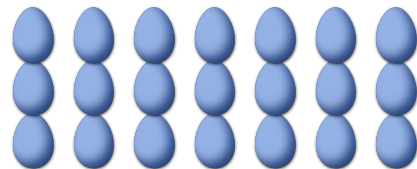
4. Il y a 12 œufs de Pâques dans le groupe ci-dessous.



5. Il y a 4 œufs de Pâques dans le groupe ci-dessous.



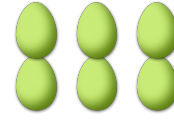

6. Il y a 21 œufs de Pâques dans le groupe ci-dessous.





# COMPTAGE DES ŒUX DE PÂQUES (1)

Combien d'œufs de Pâques y a-t-il dans chaque groupe?

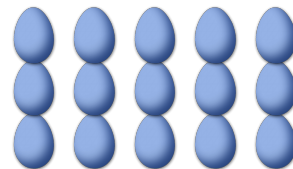

1. Il y a \_\_\_\_ œufs de Pâques dans le groupe ci-dessous.      2. Il y a \_\_\_\_ œufs de Pâques dans le groupe ci-dessous.



3. Il y a \_\_\_\_ œufs de Pâques dans le groupe ci-dessous.      4. Il y a \_\_\_\_ œufs de Pâques dans le groupe ci-dessous.



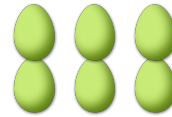

5. Il y a \_\_\_\_ œufs de Pâques dans le groupe ci-dessous.      6. Il y a \_\_\_\_ œufs de Pâques dans le groupe ci-dessous.





# COMPTAGE DES ŒUX DE PÂQUES (D) RÉPONSES

Combien d'œufs de Pâques y a-t-il dans chaque groupe?

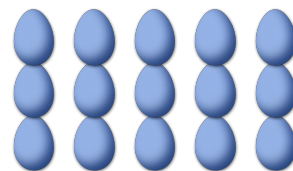

1. Il y a 12 œufs de Pâques dans le groupe ci-dessous.
2. Il y a 6 œufs de Pâques dans le groupe ci-dessous.



3. Il y a 4 œufs de Pâques dans le groupe ci-dessous.
4. Il y a 25 œufs de Pâques dans le groupe ci-dessous.



5. Il y a 20 œufs de Pâques dans le groupe ci-dessous.
6. Il y a 15 œufs de Pâques dans le groupe ci-dessous.

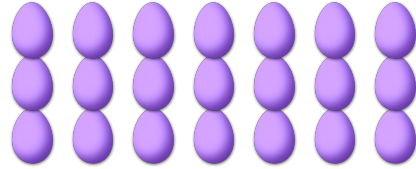
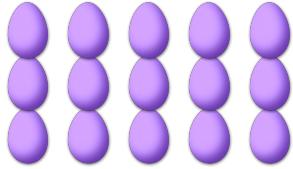






# COMPTAGE DES ŒUX DE PÂQUES (E)

Combien d'œufs de Pâques y a-t-il dans chaque groupe?



1. Il y a \_\_\_\_ œufs de Pâques dans le groupe ci-dessous.      2. Il y a \_\_\_\_ œufs de Pâques dans le groupe ci-dessous.



3. Il y a \_\_\_\_ œufs de Pâques dans le groupe ci-dessous.      4. Il y a \_\_\_\_ œufs de Pâques dans le groupe ci-dessous.



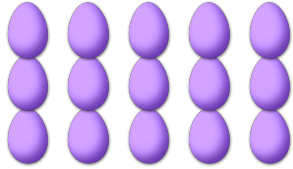
5. Il y a \_\_\_\_ œufs de Pâques dans le groupe ci-dessous.      6. Il y a \_\_\_\_ œufs de Pâques dans le groupe ci-dessous.



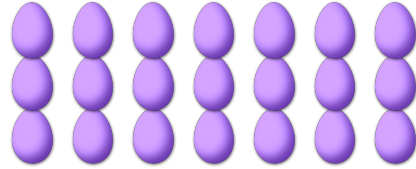
# COMPTAGE DES ŒUX DE PÂQUES (E) RÉPONSES

Combien d'œufs de Pâques y a-t-il dans chaque groupe?


1. Il y a 15 œufs de Pâques dans le groupe ci-dessous.




2. Il y a 21 œufs de Pâques dans le groupe ci-dessous.




3. Il y a 12 œufs de Pâques dans le groupe ci-dessous.




4. Il y a 8 œufs de Pâques dans le groupe ci-dessous.



5. Il y a 12 œufs de Pâques dans le groupe ci-dessous.



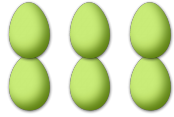
6. Il y a 35 œufs de Pâques dans le groupe ci-dessous.



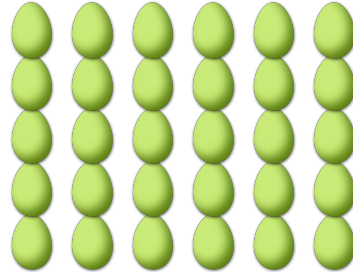
# COMPTAGE DES ŒUX DE PÂQUES (F)

Combien d'œufs de Pâques y a-t-il dans chaque groupe?

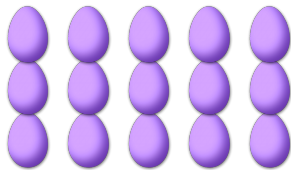
1. Il y a \_\_\_\_ œufs de Pâques dans le groupe ci-dessous.



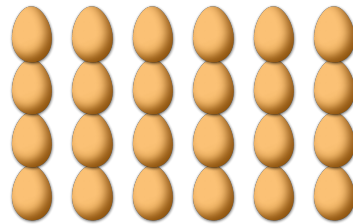
2. Il y a \_\_\_\_ œufs de Pâques dans le groupe ci-dessous.




3. Il y a \_\_\_\_ œufs de Pâques dans le groupe ci-dessous.




4. Il y a \_\_\_\_ œufs de Pâques dans le groupe ci-dessous.



5. Il y a \_\_\_\_ œufs de Pâques dans le groupe ci-dessous.



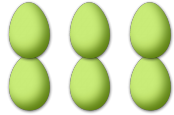
6. Il y a \_\_\_\_ œufs de Pâques dans le groupe ci-dessous.



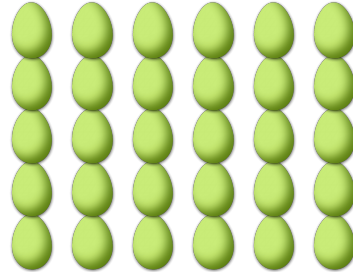
# COMPTAGE DES ŒUX DE PÂQUES (F) RÉPONSES

Combien d'œufs de Pâques y a-t-il dans chaque groupe?

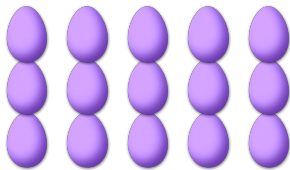
1. Il y a 6 œufs de Pâques dans le groupe ci-dessous.



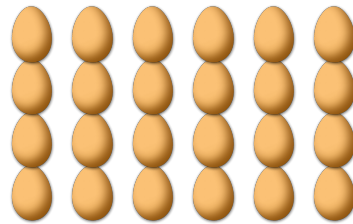
2. Il y a 30 œufs de Pâques dans le groupe ci-dessous.




3. Il y a 15 œufs de Pâques dans le groupe ci-dessous.




4. Il y a 24 œufs de Pâques dans le groupe ci-dessous.



5. Il y a 35 œufs de Pâques dans le groupe ci-dessous.





6. Il y a 28 œufs de Pâques dans le groupe ci-dessous.




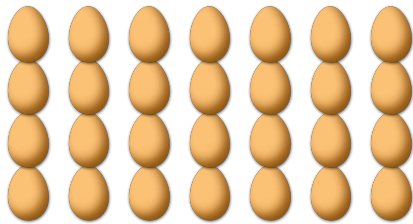
# COMPTAGE DES ŒUX DE PÂQUES (6)

Combien d'œufs de Pâques y a-t-il dans chaque groupe?

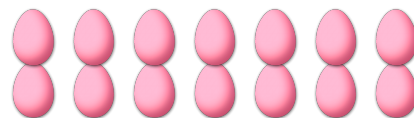

1. Il y a \_\_\_\_ œufs de Pâques dans le groupe ci-dessous.      2. Il y a \_\_\_\_ œufs de Pâques dans le groupe ci-dessous.



3. Il y a \_\_\_\_ œufs de Pâques dans le groupe ci-dessous.      4. Il y a \_\_\_\_ œufs de Pâques dans le groupe ci-dessous.




5. Il y a \_\_\_\_ œufs de Pâques dans le groupe ci-dessous.      6. Il y a \_\_\_\_ œufs de Pâques dans le groupe ci-dessous.




# COMPTAGE DES ŒUX DE PÂQUES (G) RÉPONSES

Combien d'œufs de Pâques y a-t-il dans chaque groupe?


1. Il y a 36 œufs de Pâques dans le groupe ci-dessous.




2. Il y a 12 œufs de Pâques dans le groupe ci-dessous.




3. Il y a 28 œufs de Pâques dans le groupe ci-dessous.



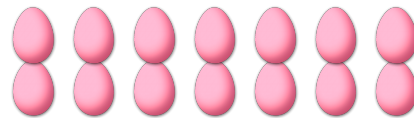
4. Il y a 30 œufs de Pâques dans le groupe ci-dessous.



5. Il y a 35 œufs de Pâques dans le groupe ci-dessous.





6. Il y a 14 œufs de Pâques dans le groupe ci-dessous.



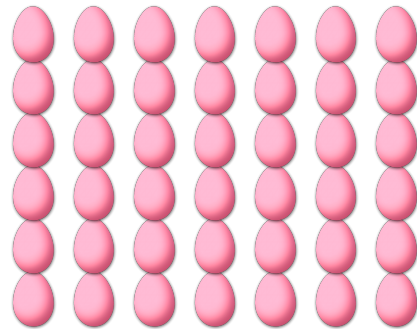

# COMPTAGE DES ŒUX DE PÂQUES (1)

Combien d'œufs de Pâques y a-t-il dans chaque groupe?


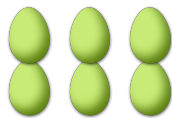
1. Il y a \_\_\_\_ œufs de Pâques dans le groupe ci-dessous.      2. Il y a \_\_\_\_ œufs de Pâques dans le groupe ci-dessous.



3. Il y a \_\_\_\_ œufs de Pâques dans le groupe ci-dessous.      4. Il y a \_\_\_\_ œufs de Pâques dans le groupe ci-dessous.




5. Il y a \_\_\_\_ œufs de Pâques dans le groupe ci-dessous.      6. Il y a \_\_\_\_ œufs de Pâques dans le groupe ci-dessous.



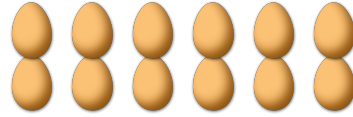
# COMPTAGE DES ŒUX DE PÂQUES (H) RÉPONSES

Combien d'œufs de Pâques y a-t-il dans chaque groupe?


1. Il y a 14 œufs de Pâques dans le groupe ci-dessous.



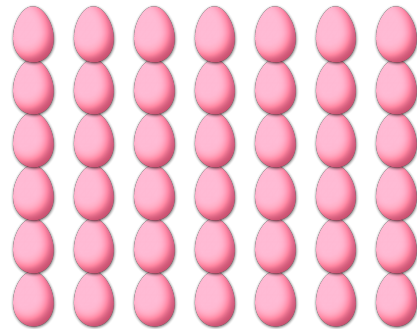
2. Il y a 12 œufs de Pâques dans le groupe ci-dessous.



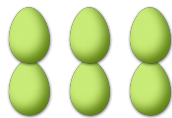
3. Il y a 15 œufs de Pâques dans le groupe ci-dessous.




4. Il y a 42 œufs de Pâques dans le groupe ci-dessous.



5. Il y a 6 œufs de Pâques dans le groupe ci-dessous.



6. Il y a 35 œufs de Pâques dans le groupe ci-dessous.








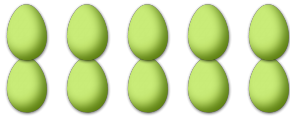
# COMPTAGE DES ŒUX DE PÂQUES (1)

Combien d'œufs de Pâques y a-t-il dans chaque groupe?

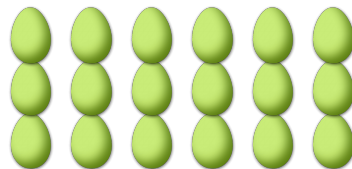
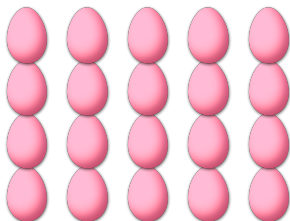
1. Il y a \_\_\_\_ œufs de Pâques dans le groupe ci-dessous.      2. Il y a \_\_\_\_ œufs de Pâques dans le groupe ci-dessous.



3. Il y a \_\_\_\_ œufs de Pâques dans le groupe ci-dessous.      4. Il y a \_\_\_\_ œufs de Pâques dans le groupe ci-dessous.




5. Il y a \_\_\_\_ œufs de Pâques dans le groupe ci-dessous.      6. Il y a \_\_\_\_ œufs de Pâques dans le groupe ci-dessous.




# COMPTAGE DES ŒUX DE PÂQUES (1) RÉPONSES

Combien d'œufs de Pâques y a-t-il dans chaque groupe?

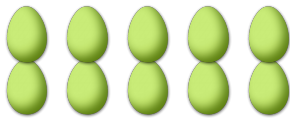
1. Il y a 30 œufs de Pâques dans le groupe ci-dessous.




2. Il y a 42 œufs de Pâques dans le groupe ci-dessous.



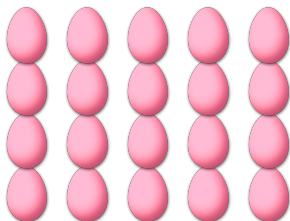
3. Il y a 10 œufs de Pâques dans le groupe ci-dessous.



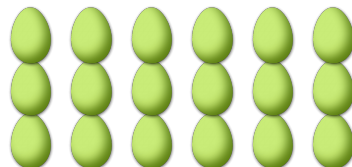
4. Il y a 35 œufs de Pâques dans le groupe ci-dessous.



5. Il y a 20 œufs de Pâques dans le groupe ci-dessous.




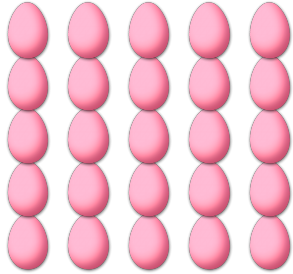
6. Il y a 18 œufs de Pâques dans le groupe ci-dessous.




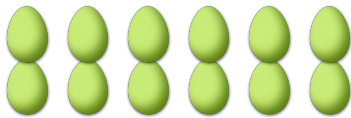
# COMPTAGE DES ŒUX DE PÂQUES (1)

Combien d'œufs de Pâques y a-t-il dans chaque groupe?


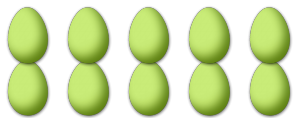
1. Il y a \_\_\_\_ œufs de Pâques dans le groupe ci-dessous.      2. Il y a \_\_\_\_ œufs de Pâques dans le groupe ci-dessous.



3. Il y a \_\_\_\_ œufs de Pâques dans le groupe ci-dessous.      4. Il y a \_\_\_\_ œufs de Pâques dans le groupe ci-dessous.



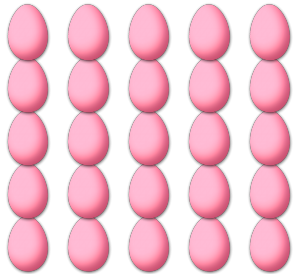
5. Il y a \_\_\_\_ œufs de Pâques dans le groupe ci-dessous.      6. Il y a \_\_\_\_ œufs de Pâques dans le groupe ci-dessous.




# COMPTAGE DES ŒUX DE PÂQUES (O) RÉPONSES

Combien d'œufs de Pâques y a-t-il dans chaque groupe?

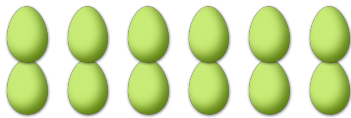
1. Il y a 25 œufs de Pâques dans le groupe ci-dessous.




2. Il y a 36 œufs de Pâques dans le groupe ci-dessous.



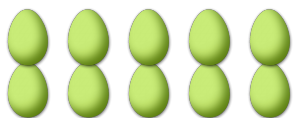
3. Il y a 12 œufs de Pâques dans le groupe ci-dessous.



4. Il y a 14 œufs de Pâques dans le groupe ci-dessous.



5. Il y a 10 œufs de Pâques dans le groupe ci-dessous.



6. Il y a 4 œufs de Pâques dans le groupe ci-dessous.

